

كراس عطلة الشتاء

السنة اولى

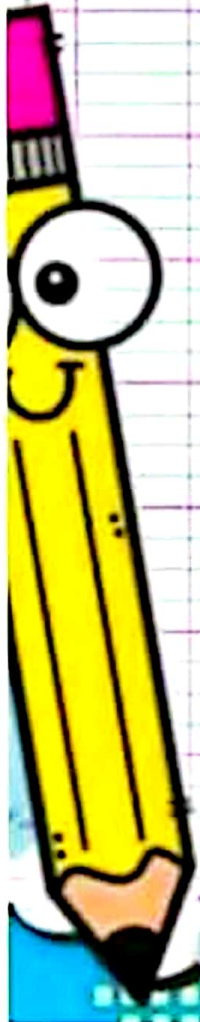
أراجع مع تقي



مجموعات هيا تتعلم

من إعداد

تقي



أراجع مكتسبات الوحدة الأولى
والثانية في الإنتاج الكتابي.

رَبُّ الْجَرِيْسِ، فَاسْتَعَدَّ الْجَمِيْعُ لِتَحِيَّةِ الْعَلَمِ.
أَرْتَبُ الْمُفْرَدَاتِ لِأَحْضِلَ عَلَى جُمْلَةٍ حَسَبِ الْقَطْلُوْبِ
فِي كُلِّ مَرَّةٍ:

التَّلَامِيْذُ النُّشْطَاءُ حَيَّ الْعَلَمَ فِي السَّاحَةِ بِاخْتِرَامٍ

--	--

--	--	--	--

--	--	--	--	--

--	--	--	--	--	--

أرسم علم تونس



أراجع مكتسبات الوحدة الأولى
والثانية في الإنتاج الكتابي.

رَنِّ الْجَرِيْسُ، فَاسْتَعَدَّ الْجَمِيْعُ لِتَحِيَّةِ الْعَلَمِ.
أَرْتَبُ الْمُفْرَدَاتِ لِأَحْصِلَ عَلَى جُمْلَةٍ حَسَبِ الْقَطْلُوْبِ
فِي كُلِّ مَرَّةٍ:

التَّلَامِيْذُ اصْطَفَى فِي نِظَامِ أَمَامَ الْقِسْمِ وَاَنْضَبَاطِ

--	--

--	--	--	--

--	--	--	--	--

--	--	--	--	--	--

أرسم صديقك
المفضل



تمهيد للوحدة الثالثة
في الإنتاج الكتابي.

أقرأ الجمل وأربطها بالمشهد المناسب




غَيَّرْتُ فِرْدَوْسَ مَلَابِسَهَا.




غَسَلْتُ فِرْدَوْسَ وَجْهَهَا.




نَظَّفَ فَارِسُ أَسْنَانَهُ

5 5 5 5 5 5 5 5 5 

6 6 6 6 6 6 6 6 6 

أكتب العدد المناسب على البطاقة.



تمهيد للوحدة الثالثة
في الإنتاج الكتابي

أَقْرَأِ الْجَمَلَ وَأَرِطْهَا بِالْمَشْهَدِ الْمُنَاسِبِ



- رَتَّبَ حَاتِمٌ عُرْفَتَهُ.



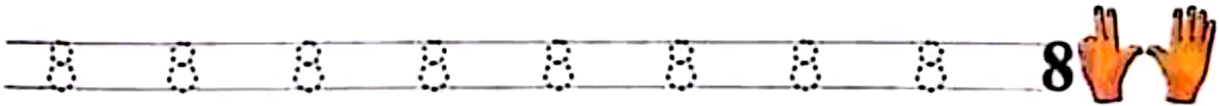
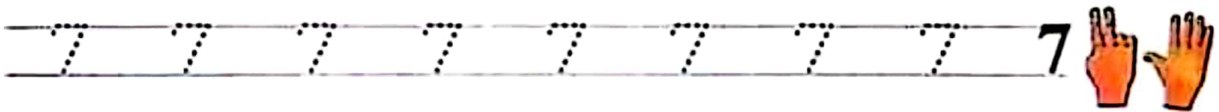
- مَسَحَ حَاتِمٌ مَكْتَبَهُ
وَفَتَحَ النَّافِذَةَ.




- نَظَّفَ حَاتِمٌ أَسْنَانَهُ
بِالْفُرْشَاةِ وَالْمَعْجُونِ.



- تَنَاوَلَ حَاتِمٌ فَطُورَ الصَّبَاحِ.




◀ اكتب العدد المناسب على كل بطاقة.





تمهيد للوحدة الثالثة
في الإنتاج الكتابي

أقرأ الجمل وأكتبها امام المشهد المناسب
رَأَتْ الْمُمَرِّضَةَ طَارِقًا يَلْمُ الْأُورَاقَ.
وَقَفَّتِ الْمُمَرِّضَةُ فِي الرَّوَّاقِ.
شَاهَدَتِ الْمُمَرِّضَةَ فِرْدَوْسَ تَسْقِي الْقَرْنَفُلَ



أكتب العدد المناسب على البطاقة.




الأعداد من 1 إلى 5


1- أَلَوِّن لَأَفِتَّةَ العَدَدِ المُنَاسِبِ:



4 3 5




1 2 3




4 5 3




1 3 4




5 3 4




3 1 2



3 4 2



5 2 1


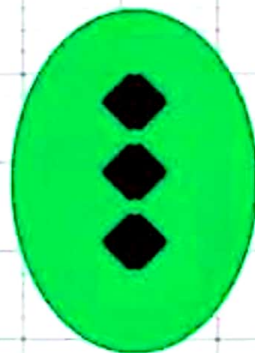
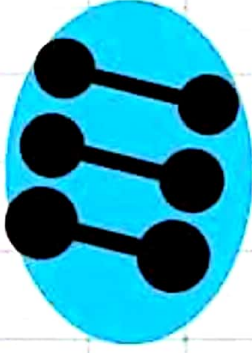


4 5 2

تقي .مجموعات هيا تتعلم

الأعداد من 1 إلى 5

أربط المجموعة بالعدد المناسب





2

4

5

1

3



أحسب تصاعديًا وأكتب

5

4

3

2

1

أحسب تنازليًا وأكتب

1

2

3

4

5

تقي . مجموعات هيا نتعلم

الأعداد من 1 إلى 5

أحسب وأكتب النتيجة

$$\text{☁} = \text{☁}4 + \text{☁}1$$

$$\text{☁} = \text{☁}1 + \text{☁}2$$

$$\text{☁} = \text{☁}1 + \text{☁}1$$

$$\text{☁} = \text{☁}2 + \text{☁}3$$

تقي . مجموعات هيا نتعلم

الأعداد من 1 إلى 5

لعبة من أنا؟



رقم يأتي مباشرة قبل 2



رقم يأتي مباشرة بعد 4



رقم يأتي مباشرة قبل 3




رقم أصغر من 5 وأكبر من 3




رقم أصغر من 4 و أكبر من 2

ألوان حسب المطلوب




تقي .مجموعات هيا نتعلم

أضع في إطار السلوك الذي يُحفظ على النظافة:



ألون الطفل النظيف:



نظيف




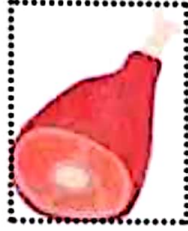
متسخ

أحيط السلوك الذي يدل على نظافة مُحيطي



نقي .مجموعات هيا نتعلم

أحيط بِحَظِّ مُغَلِّقِي كُلِّ غِذَاءٍ مَصْدَرُهُ حَيَوَانِي :



أشطب العنصر الدّخيل على هذه المَجْمُوعَةِ:



تقي .مجموعات هيا نتعلم

أَلْوَنُ كُلِّ غِذَاءٍ مَصْدَرُهُ نَبَاتِي:



تقي. مجموعات هيا نتعلم

أربط كلَّ غذاءٍ بِمصدرِهِ:



تعلم ترتيب الأحداث

