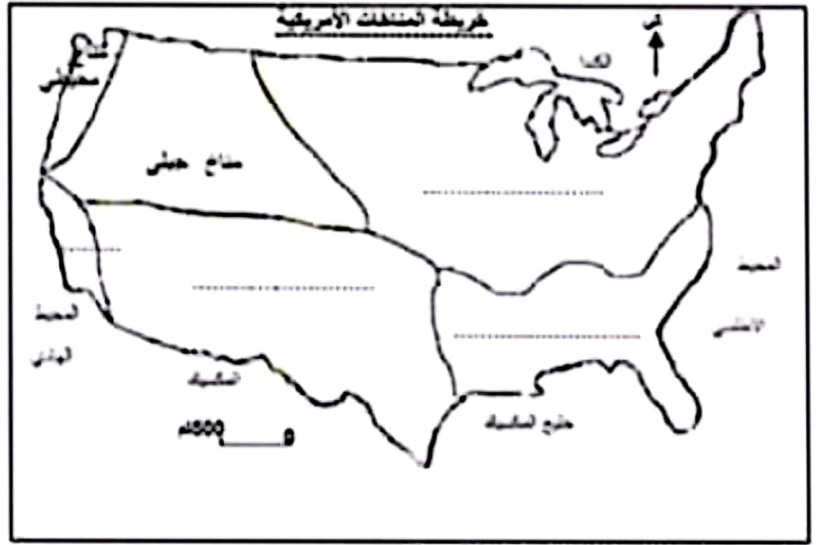


الفرض التألفي الأول

الاسم:
اللقب:
القم:

I القسم الأول : (6 نقاط)

1. سجل على المواقع على الخريطة
ما يناسب من أسماء هذه المناخات:
13 مناخ قاري رطب - مناخ متوسطي -
مناخ قاري جاف - مناخ شبه مداري
رطب).



2. اربط المدينة الأمريكية بعدد سكانها:
12 شيكاغو ● 21.2 مليون نسمة
لوس أنجلوس ● 16.4 مليون نسمة
نيو يورك ● 9.2 مليون نسمة
واشنطن ● 7.2 مليون نسمة

3. عرف الصناعات المتطورة:

12

II القسم الثاني : (12 نقطة) استغلال وثيقة :

العنوان: تطور مساهمة قطاع الخدمات في التشغيل وفي الناتج الداخلي الخام في الولايات المتحدة الأمريكية بين 1960 و 2012

السنوات	1960	1970	1987	2005	2012
نسبة المساهمة في التشغيل	61%	61%	72%	78%	-
في الناتج الداخلي الخام	60%	-	66%	77%	79%

المصدر: ملامح العالم الاقتصادية لسنوات 1988 و 2007 و 2013 و 2014

1. قدم الوثيقة: (نوعها موضوعها مصدرها)

12

2. حلل الحركة التطورية لمساهمة قطاع
الخدمات في التشغيل والناتج الداخلي الخام
الأمريكي:

14



3. أكمل رسم منحنى مساهمة قطاع الخدمات
الأمريكي في الناتج الداخلي الخام بقلم رصاص
ثم مرر بالأحمر على مساهمته في التشغيل .
ماذا تستنتج ؟

16

الصياغة والتبويب 12

المادة: الجغرافيا
المدة: 60 دقيقة
المستوى التعليمي: 8 أساسي

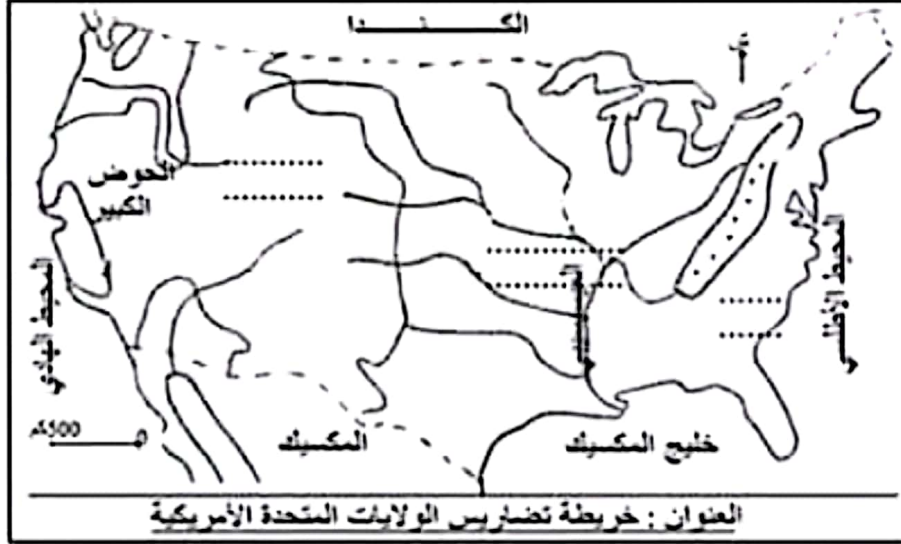
الغرض التألفي الأول

الاسم:
اللقب:
الرقم:

I الجزء الأول : (7 نقاط)

1. سجل على المواقع على الخريطة ما يناسب من هذه الأسماء: (جبال الإنالز - السهول الكبرى - السهل الأطلسي - جبال الروكي).

12



1. اربط الشركة الصناعية الأمريكية برتبتها العالمية سنة 2005

12

- جنرال موتورس
 - فورد
 - شفرون تاكساكو
 - أكسون موبيل
- 2 ●
4 ●
6 ●
9 ●

3. عرف الحريرة ونسبة الأمية:

الحريرة هي.....

نسبة الأمية هي.....

13

II الجزء الثاني : (11 نقطة) استغلال وثيقة :

أجب على الأسئلة بالاعتماد على الوثيقة ومستعينا بالدرس:

1. قدم نوع الوثيقة وموضوعها ومصدرها :

المبادلات التجارية الأمريكية سنة 2012

1480	قيمة الصادرات بالمليار دولار
159	منها الفلاحية
2266	قيمة الواردات بالمليار دولار
104	منها الفلاحية
.....	الميزان التجاري العام (عاجز / فائض)
.....	الميزان الفلاحي (عاجز / فائض)

المصدر: ملاح العالم الاقتصادية لسنة 2014/2013

2. أشطب الخطأ بين قوسين في الوادي الأول وأكمل

الفراغين في الوادي الثاني

13

3. بين خصائص المبادلات الخارجية الأمريكية ثم عرف ببقية الخدمات التي توفرها الولايات المتحدة الأمريكية للعالم ومظاهر تكاملها مع هذه المبادلات:

16

الصيانة والتنظيم 12

الغرض التألفي الأول

اللقب:
الرقم:

I القسم الأول : (7 نقاط)

2. اربط الإنتاج الصناعي الأمريكي بنسبته

من مجموع الإنتاج العالمي سنة 2007: /2

- النفط المكرر ● 12.8 %
- السيارات ● 18.8 %
- المطاط الاصطناعي ● 19.6 %
- الألومنيوم ● 20.3 %

/2

1. عرف الحزام:

.....
.....
.....
.....

3. سجل هذه الأقطار في الواد المناسب من الجدول: (المملكة العربية السعودية - تونس - النيجر - تركيا -

أستراليا - السودان) .

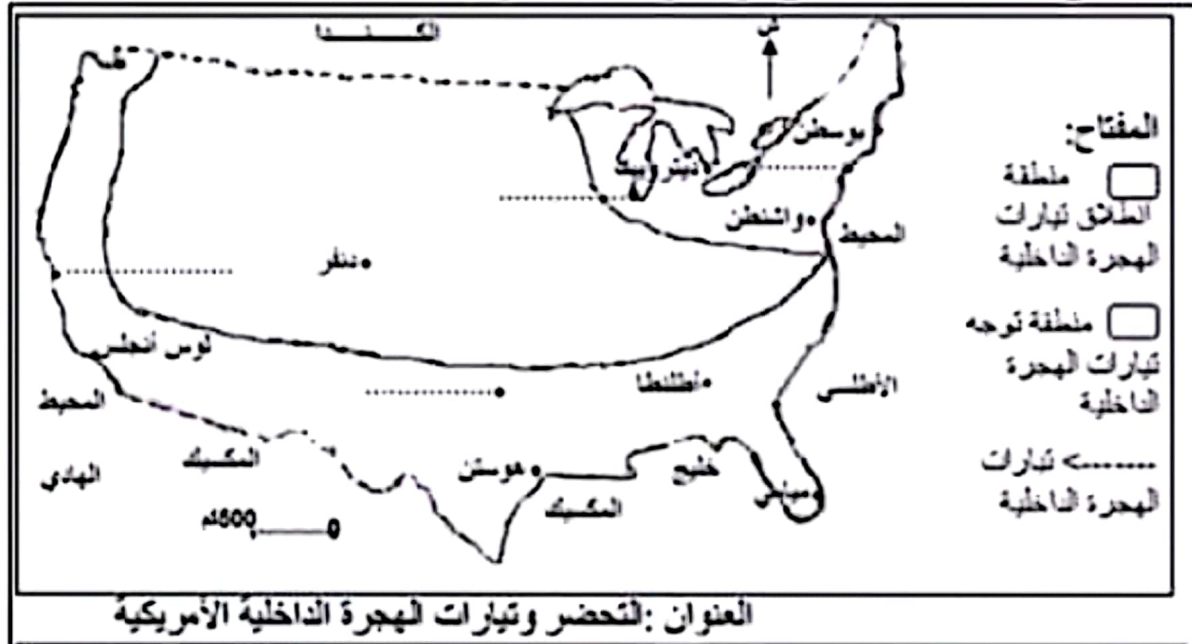
/3

بلدان فقيرة جدا	بلدان فقيرة	بلدان متوسطة الثراء	بلدان ثرية	بلدان ثرية جدا
.....
.....

I القسم الثاني : (11 نقطة) استغلال وثيقة :

أجب على الأسئلة بالاعتماد على الوثيقة ومستعينا بالدرس:

1. قدم نوع الوثيقة
وموضوعها :



2. سجل أسماء هذه المدن في المكان المناسب: (دالاس - نيويورك - شيكاغو - سان فرانسيسكو) وأكمل مفتاح

/3.5

الخريطة بما يناسب.

3. ميز بلونين مختلفين بين منطقة انطلاق تيارات الهجرة الداخلية ومنطقة توجيهاها ثم أرسم تيارات الهجرة الداخلية

/5.5

بين المنطقتين وفسر هذه الحركة المجالية :

السماحة والتظلمة /2

الفرض التألفي الأول

الاسم:
اللقب:
القسم:

القسم الأول : (6 نقاط)

2. عرف الشركات عبر القارية : /2

1. اربط المناخ الأمريكي بمنطقة تواجدده: /2

- شبه المداري الرطب
- أنقاري الرطب
- المتوسطي
- المحيطي
- الجنوب الغربي
- الجنوب الشرقي
- الشمال الشرقي
- الشمال الغربي

3. اذكر مظهرين لخدمة الدولة الأمريكية مصلحة المؤسسات الأمريكية : /2

.....
.....

القسم الثاني : (12 نقطة) استغلال وثيقة :

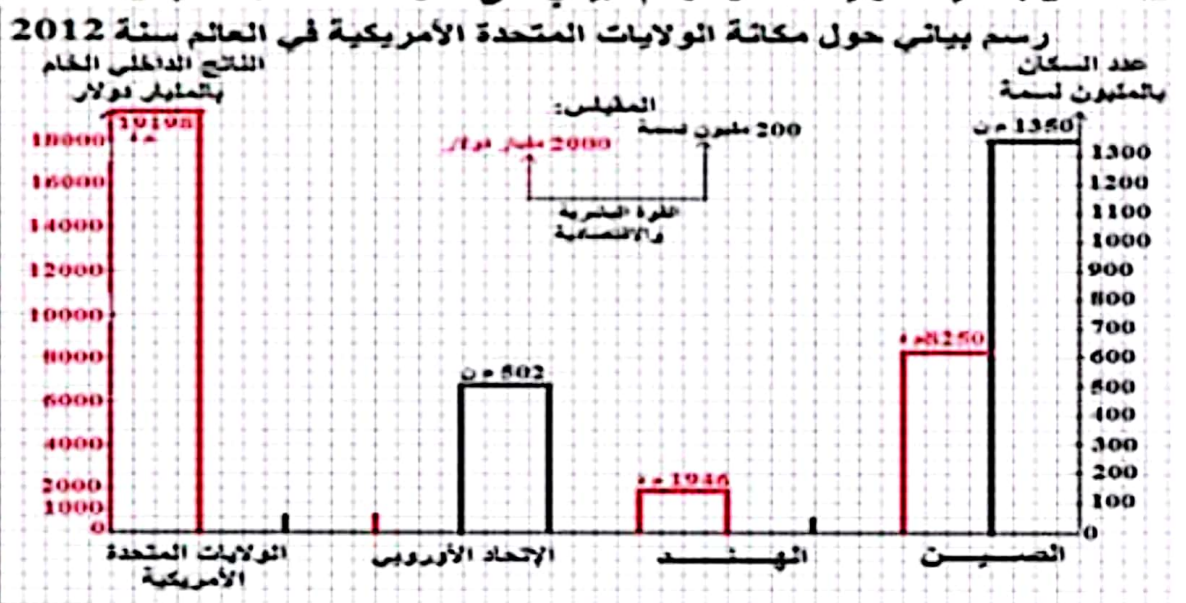
مكاتب الولايات المتحدة الأمريكية في العالم سنة 2012

1. قدم الوثيقة (نوعها
موضوعها مصدرها) وأكمل
الفراغات فيها:

ناتجها الداخلي الخام بالمليار دولار (وربتها)	عدد سكانها بالمليون نسمة (وربتها)	القوة البشرية والاقتصادية
8250 (.....)	1350 (1)	الصين
1946 (.....)	1260 (.....)	الهند
15700 (.....)	502 (.....)	الإتحاد الأوروبي
19198 (.....)	314 (.....)	الولايات المتحدة الأمريكية

المصدر: ملامح العالم الاقتصادية لسنتي 2013/2014

2. استعن بمعطيات الوثيقة لاكمال الرسم البياني على شكل أعمدة حسب المقياس المحدد: /4



3. بين مكاتب الولايات المتحدة الأمريكية في العالم من حيث عدد السكان والناتج الداخلي الخام ماذا تستنتج؟:

.....
.....

12 الصياغة والتنظيم

اصلاح الفرض التالفي الاول (المثال 1)**القسم الاول : (6 نقاط)**

13 1. التمرين الأول: (انظر الخريطة)

12 2. التمرين الثاني:

- شيكاغو ● 21.2 مليون نسمة
- لوس أنجلوس ● 16.4 مليون نسمة
- نيو يورك ● 9.2 مليون نسمة
- واشنطن ● 7.2 مليون نسمة



12 3. التمرين الثالث:

تسمى كذلك صناعات الجيل الثالث والصناعات ذات التقنية العالية نطلق تصنيعها بعد الحرب العالمية الثانية وتواصل إلى اليوم تضم صناعات غزو فضاء والطائرات والصناعات الإلكترونية وصناعة تجهيزات الإعلامية وصناعة الطاقة النووية والأدوية والأسلحة المتطورة والتجهيزات طبية وغيرها من الصناعات الدقيقة.

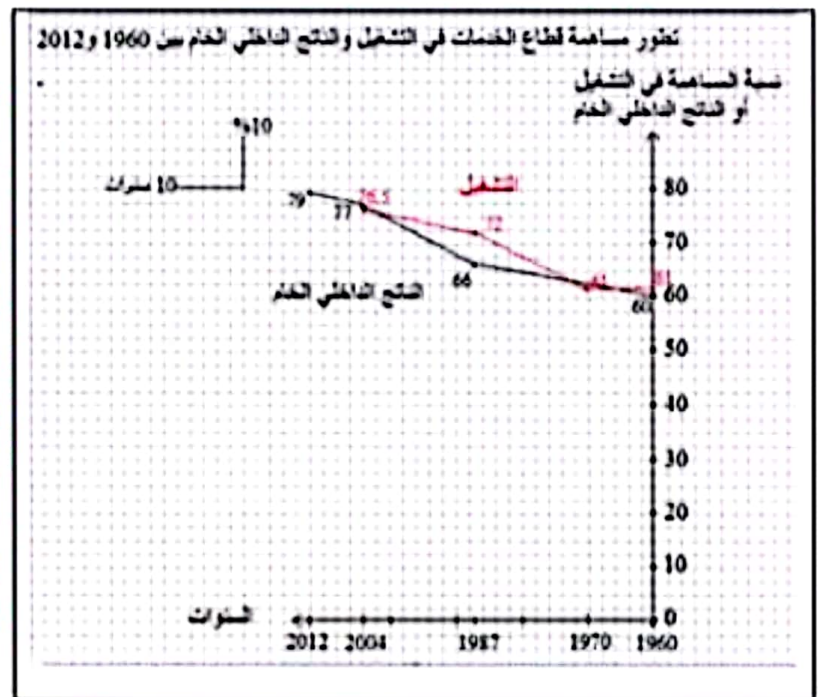
II القسم الثاني : (12 نقطة) استغلال وثيقة :

12 1. التمرين الأول:

هذه الوثيقة على شكل جدول تطوري يتعلق بموضوعه بتطور مساهمة قطاع الخدمات الأمريكي في التشغيل وفي الناتج الداخلي الخام للدولة وقد أخذت معطياته من ملامح العالم الاقتصادية لسنوات متعددة (1988-2007-2013-2014).

14 2. التمرين الثاني:

منذ منتصف القرن العشرين كانت مكانة قطاع الخدمات متميزة في الولايات المتحدة الأمريكية على مستوى التشغيل ومساهمتها في الناتج الداخلي الخام ففي سنة 1960 شغل قطاع الخدمات 61% من اليد العاملة الأمريكية ووفر 60% من الناتج الداخلي الخام الأمريكي وقد تدعت هذه المكانة طيلة النصف الثاني للقرن العشرين وبداية القرن الواحد والعشرين فبلغت على مستوى التشغيل 78% والناتج الداخلي الخام 77% سنة 2005. وقد ارتفعت هذه النسب على حساب القطاعين الأول والثاني.



16 التمرين الثالث: (أنظر الرسم)

نستنتج أن نسق تطور مساهمة قطاع الخدمات كان سريعاً خلال النصف الثاني للقرن العشرين ثم تباطأ في بداية القرن الواحد والعشرين وفي المقابل كان نسق تطور مساهمته في الناتج الداخلي الخام أقل سرعة من نسق التشغيل خلال النصف الثاني للقرن العشرين لكنه تجاوزه فيما بعد وعموماً يؤكد هذا الرسم البياني أن

12 الصياغة والتنظيم

الثلاثة تهيمن على الاقتصاد الأمريكي

اصلاح الغرض التألفي الأول (المثال 2)

المدة: 60 دقيقة
المستوى التعليمي: 8 أساسي

I الجزء الأول : (7 نقاط)



1. التمرين الأول: (انظر الخريطة) /2

2. التمرين الثاني
- 2 ● جنرال موتورس ●
 - 4 ● فورد ●
 - 6 ● شفرون تاكساكو ●
 - 9 ● أكسون موبيل ●

3. عرف الحريرة ونسبة الأمية:

الحريرة هي وحدة قيس الطاقة التي تفرزها المواد الغذائية المستهلكة خلال يوم.

نسبة الأمية هي نسبة الذين لا يحسنون القراءة والكتابة ممن تجاوزوا سن الدراسة.

II الجزء الثاني : (11 نقطة) استغلال وثيقة :

المبادلات التجارية الأمريكية سنة 2012

1480	قيمة الصادرات بالمليار دولار
159	منها الفلاحية
2266	قيمة الواردات بالمليار دولار
104	منها الفلاحية
- 786	الميزان التجاري العام (عاجز / فائض)
55	الميزان الفلاحي (عاجز / فائض)

المصدر: ملامح العالم الاقتصادية لسنة 2014/2013

1. التمرين الأول:

هذه الوثيقة على شكل جدول ثابت يتعلق بموضوعه بالميزان التجاري الأمريكي سنة 2012 وقد وردت معطياته في ملامح العالم الاقتصادية لسنة 2013 و2014.

2. التمرين الثاني: (انظر الجدول) /3

3. التمرين الثالث:

تتميز المبادلات الأمريكية بضخامة حجمها الذي تحتل به المرتبة العالمية الأولى كما تتميز بأهمية صادراتها من التقنيات العالية التي بلغت قيمتها 145.5 مليار دولار سنة 2012. إلا أن الميزان التجاري عاجز وقيمة عجزه ضخمة فقد بلغت سنة 2012 786 مليار \$ وإلى جانب ما تصدره من منتوجات إلى العالم توفر الولايات المتحدة الأمريكية خدمات عديدة كالنقل والاتصال والإعلام والترفيه والإطعام وغيرها وتحقق بفضلها أرباحا طائلة تمكنها من تغطية جزء هام من عجز ميزانها التجاري وبذلك يظهر التكامل بين العديد من الخدمات التي توفرها الولايات المتحدة الأمريكية للعالم.

السبالة والتنظيم /2

المادة: الجغرافيا
المدة: 60 دقيقة
المستوى التعليمي: 8 أساسي

اصلاح الفرض التاليفي الاول (المثال 3)

I القسم الأول : (7 نقاط)

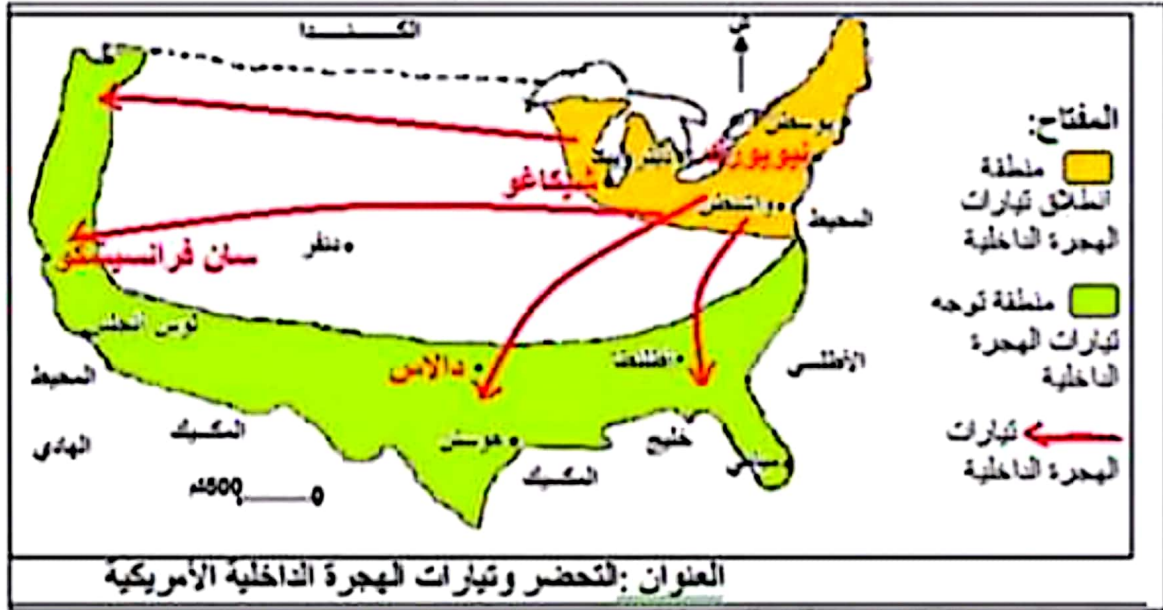
1. التمرين الأول:
الحزام هو مصطلح أمريكي يشير إلى تخصص منطقة في إنتاج فلاحي أو صناعي أو لها مميزات خاصة طبيعية أو غيرها مثل الأحزمة الفلاحية والحزام الصناعي القديم وحزام الشمس...

2. التمرين الثاني:
النفط المكرر ● 12.8 %
السيارات ● 18.8 %
المحطات الاصطناعية ● 19.6 %
الألومنيوم ● 20.3 %

3. التمرين الثالث:

بلدان فقيرة جدا	بلدان فقيرة	بلدان متوسطة الثراء	بلدان ثرية	بلدان ثرية جدا
النيجر	السودان	تونس	تركيا	أستراليا المملكة العربية السعودية

I القسم الثاني : (11 نقطة) استغلال وثيقة :



1. التمرين الأول :
هذه الوثيقة على شكل خريطة تتعلق بموضوعها بالتحضر وتيارات الهجرة الداخلية الأمريكية.

2. التمرين الثاني: (انظر الخريطة)

13.5

3. التمرين الثالث: (انظر الخريطة والتفسير الموالي)

15.5

شهدت مدن الشمال الشرقي الأمريكي وخاصة الميغالوبوليس في نهاية القرن العشرين تباطؤا كبيرا في نسق نموها باستثناء مدينة واشنطن العاصمة الفدرالية وتعتبر هذه الوضعية عن فتور نموها الاقتصادي بحكم اكتمال هذا النمو إلى درجة عجز هذه المنطقة عن استقطاب أنشطة اقتصادية كبرى فأصبحت منفرة للمستثمرين والشباب الباحثين عن مواطن شغل مناسبة وأصبحت منطقة حزام الشمس الممتدة في الجنوب والغرب وجهتهم الرئيسية لما يتوفر فيها من عوامل طبيعية كالمناخ الملائم والثروات الباطنية المتنوعة فزادت هذه الهجرة الداخلية في تنشيط هذه المناطق الحديثة الاستثمار بتوفير رؤوس الأموال واليد العاملة المختصة.

السياحة والتنظيم 12

اصلاح الفرض التالفي الأول (المثال4)

I القسم الأول : (6 نقاط)

2. التميرين الثاني :
الشركات عبر القطرية هي مؤسست كبرى متعددة الأنشطة لها فروع كثيرة في الخارج للاستفادة من ضعف الأجور والضغط على تكاليف الانتاج والاستفادة من أهمية السوق الاستهلاكية.

1. التميرين الأول:
شبه المداري الرطب ●
القاري الرطب ●
المتوسطي ●
المحيطي ●
الجنوب الغربي ●
الجنوب الشرقي ●
الشمال الشرقي ●
الشمال الغربي ●

3. التميرين الثالث:
- التخفيض في الأداءات.
- الحد من العقبات أمام ترويج الانتاج.

II القسم الثاني : (12 نقطة) استغلال وثيقة :

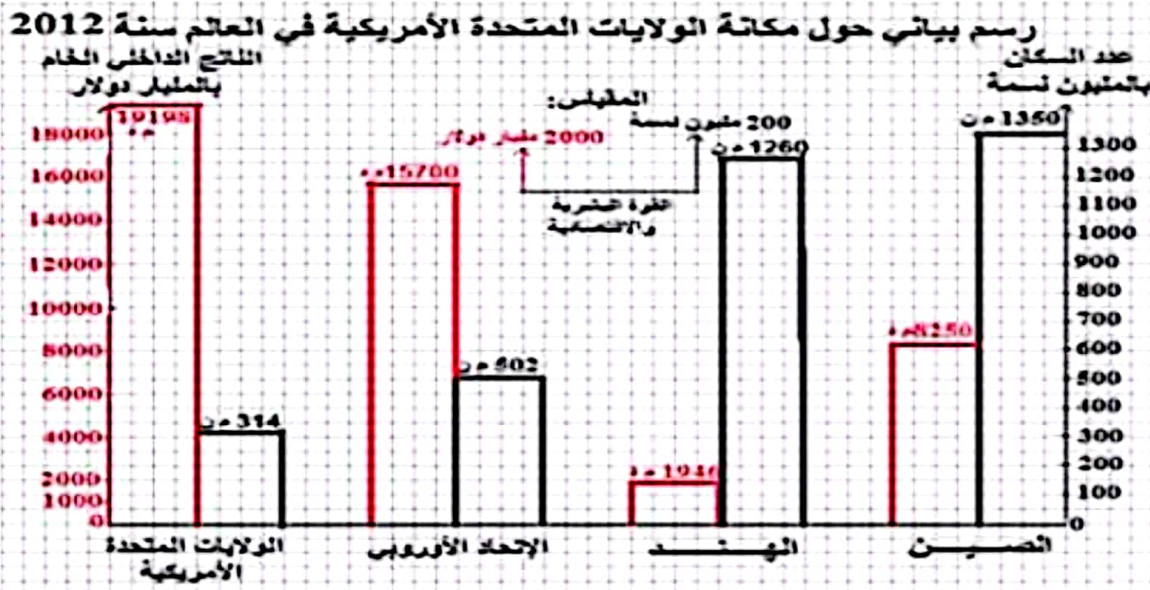
1. التميرين الأول:
هذه الوثيقة على شكل جدول ثابت يتعلق موضوعه بمكاتب الولايات المتحدة الأمريكية في العالم سنة 2012 من خلال مقارنة عدد سكانها ونتاجها الداخلي الخام بكل من الصين والهند والإتحاد الأوروبي. وقد أخذت معطيات هذا الجدول من ملامح العالم الاقتصادية لسنتي 2013 و2014.

مكاتب الولايات المتحدة الأمريكية في العالم سنة 2012

نتاجها الداخلي الخام بالمليار دولار (ورتيبتها)	عدد سكانها بالمليون نسمة (ورتيبتها)	القوة البشرية والاقتصادية
(3) 8250	(1) 1350	الصين
(4) 1946	(2) 1260	الهند
(2) 15700	(3) 502	الإتحاد الأوروبي
(1) 19198	(4) 314	الولايات المتحدة الأمريكية

المصدر: ملامح العالم الاقتصادية لسنتي 2013/2014

2. التميرين الثاني:



3. التميرين الثالث:
تظهر مكاتب الولايات المتحدة الأمريكية المتميزة على المستوى العالمي فهي تحتل المرتبة العالمية الرابعة على مستوى عدد السكان بحوالي 5% من مجموع سكان العالم لكن نتاجها الداخلي الخام تجاوز سنة 2012 ضعف ما توفره الصين التي يمثل سكانها حوالي 20% من مجموع سكان العالم. وبذلك نستنتج قوة الاقتصاد الأمريكي الذي يتميز بتطور كل قطاعاته واعتمادها على التقنيات العالية.

الصيانة والتنظيم 12