

المادة: التاريخ

المدة: 60 دقيقة

المستوى التعليمي: 9 أساسي

فرض التألفي الأول (مثال 1)

I القسم الأول: (6 نقاط)

/2

3. اربط الحدث بتاريخ وقوعه:

● 4 جوان 1944

● 8 أبريل 1945

● 6 أوت 1945

● 19 أوت 1945

● استسلام اليابان

● القاء قنبلة نووية على هيروشيما

● استسلام ألمانيا

● استسلام إيطاليا

/2

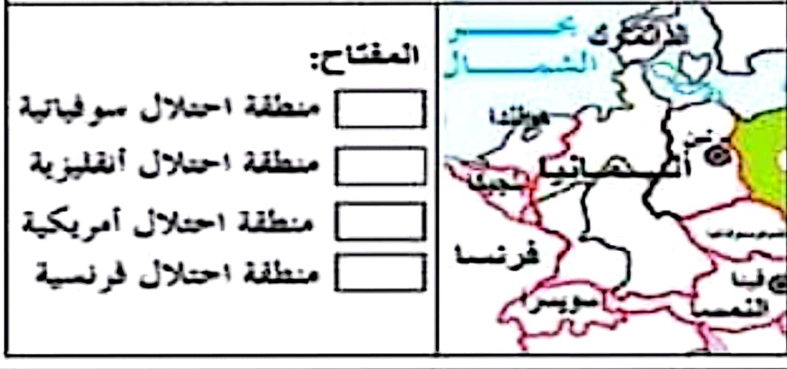
4. عرف بإيجاز هاتين الشخصيتين:

- أدولف هيتلر.....

/2

3. لون مناطق احتلال ألمانيا سنة 1945:

احتلال ألمانيا سنة 1945



- بينيتو موسوليني.....

II القسم الثاني: (12 نقطة) تحرير موضوع

الموضوع: بين كيف كانت توسعات هتلر في أوروبا الوسطى سببا مباشرا لقيام الحرب العالمية الثانية

/1.5

1. المقدمة:

/9

2. الجوهر:

/1.5

3. الخاتمة:

الصياغة والتنظير /2

اصلاح فرض التألفى الاول(مثال 1)**I القسم الأول: (6 نقاط)**

/2

1. اربط الحدث بتاريخ وقوعه:

- استسلام اليابان
- القاء قنبلة نووية على هيروشيما
- استسلام ألمانيا
- استسلام إيطاليا
- 4 جوان 1944
- 8 أبريل 1945
- 6 أوت 1945
- 19 أوت 1945

/2

2. تعريف موجز بهتلر وموسوليني:

- أدولف هيتلر: هو زعيم نازي ألماني عين مستشارا في جانفي 1933 فمنحه ذلك سلطة واسعة للقيام بعدديد التحركات العسكرية التي مكنت ألمانيا من استرجاع سلطتها على ترابها واستعادة وحدة شعبها إلا أن تحركاته العسكرية لم تتوقف في أوروبا الوسطى مما تسبب في قيام الحرب العالمية الثانية.

- بينيتو موسوليني: هو زعيم فاشي إيطالي هدد الملك بالاستيلاء على السلطة فعينه رئيسا للحكومة في أكتوبر سنة 1922 وباعتبار إيطاليا تعاني من أزمة شاملة اقتصادية واجتماعية حادة مشابهة للأزمة في ألمانيا طبق سياسة توسعية خاصة في إفريقيا وتحالف مع الزعيم الألماني هتلر وسانده خلال الحرب العالمية الثانية.

II القسم الثاني: (12 نقطة) تحرير موضوع

الموضوع: بين كيف كتت توسعات هتلر في أوروبا الوسطى سببا مباشرا لقيام الحرب العالمية الثانية

/1.5

1. المقدمة:

بعد 20 سنة من انتهاء الحرب العالمية الأولى وإبرام مؤتمر الصلح في باريس سنة 1919 خاض العالم حربا ثانية دامت من سبتمبر 1939 إلى أوت 1945 وقد تعددت أسباب هذه الحرب منها العميقة ومنها المباشرة. فكيف كانت توسعات هتلر في أوروبا الوسطى سببا مباشرا لقيام الحرب العالمية الثانية؟

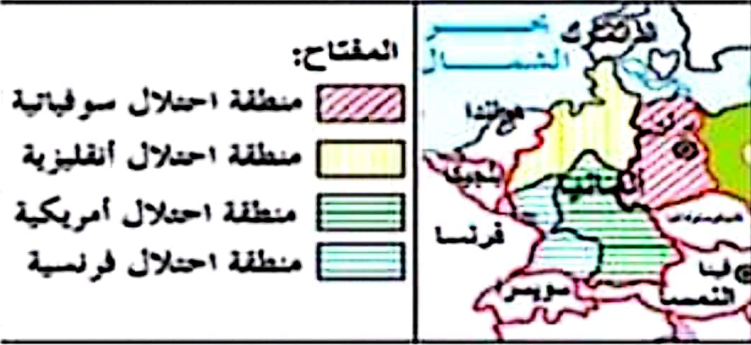
/9

2. الجوهر:

بعد إعادة تسليح رينانيا وانتهاج ألمانيا سياسة التسلح اتجهت أنظار زعيمها نحو أوروبا الوسطى فقد رأى هتلر في النمسا منطقة خصبة قريبة يمكن أن تزود ألمانيا بحاجياتها الفلاحية فاستعان بالنازيين الموجودين فيها لدخولها في فيفري 1938 وإتمام ضمها يوم 13 مارس. وقد أقنع هتلر الدول الديمقراطية بهذا الاحتلال بدعوى الاستجابة لمطالب الشعب النمساوي. أما الدولة الثانية التي اتجهت لها أنظار هتلر فكانت تشيكوسلوفاكيا التي فيها "السودات" وهي منطقة تضم حوالي 3 ملايين ألماني وأمام رفض التشيكيين لطلب ضمها لألمانيا اضطر هتلر لدعوة فرنسا وانجلترا وإيطاليا في مؤتمر مونيخ (29 - 30 سبتمبر 1938) ونيل موافقتهم على ضم منطقة السودات لكن ألمانيا لم تقتصر عليها بل فرضت

4. مناطق احتلال ألمانيا سنة 1945:

احتلال ألمانيا سنة 1945



المادة: الجغرافيا

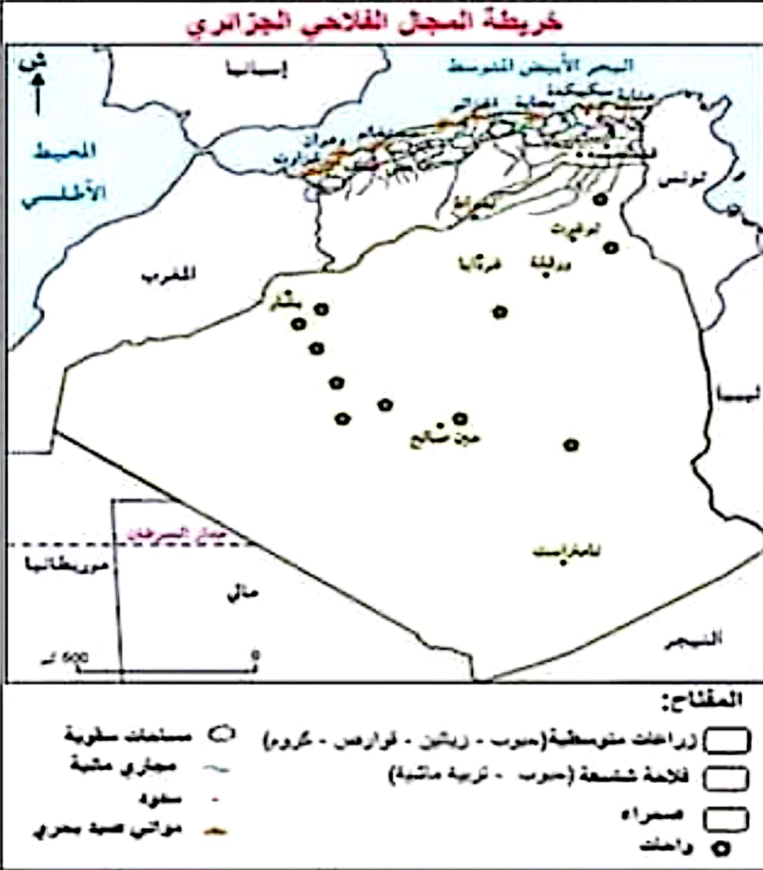
المدة: 60 دقيقة

المستوى التعليمي: 9 أساسي

فرض التألفي الأول (مثال 1)

القسم الأول: (6 نقاط)

3. أكمل تلوين الخريطة ومفتاحها : /2



1. اربط البلد المغربي معدل الدخل الفردي

/2

السنوي فيه سنة 2005:

- ليبييا
- المغرب الأقصى
- الجزائر
- موريتانيا
- \$ 2500
- \$ 4500
- \$ 8000
- \$ 11000

2. عرف بسياسة الاصلاح الهيكلي التي

طبقتها الجزائر في منتصف التسعينات: /2

.....

.....

.....

.....

.....

.....

.....

.....

.....

.....

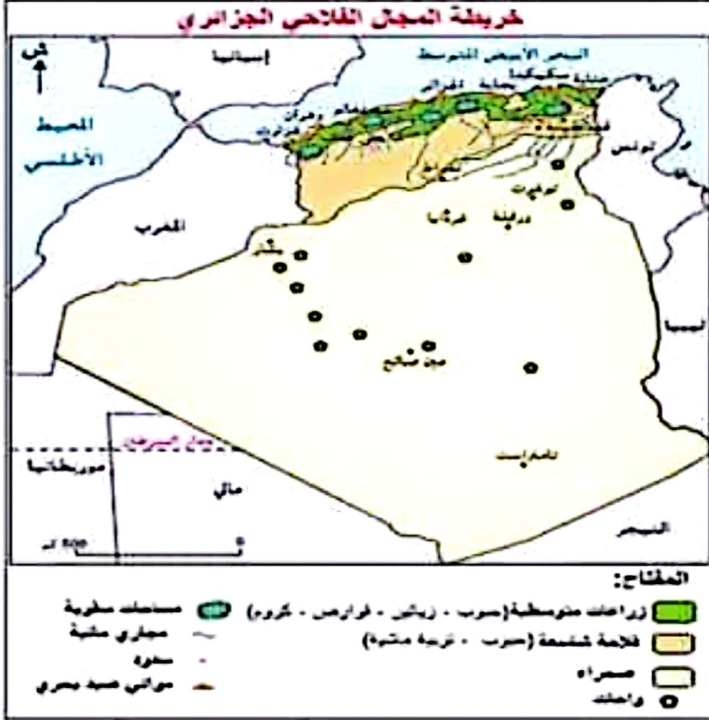
II القسم الثاني: (12 نقطة) تحليل وثائق

الوثيقة الأولى:

تطور نسبة التحضر في دول المغرب العربي منذ منتصف القرن العشرين

في بداية القرن الواحد والعشرين	في منتصف القرن العشرين	نسبة التحضر
86 %	25 %	ليبيا
64.9 %	33 %	تونس
61 %	25.6 %	الجزائر
55.1 %	25 %	المغرب الأقصى
58 %	2.3 %	موريتانيا

المصدر: أرمون كولان "المغرب الكبير" 2006 ص 76

اصلاح فرض التآلفى الأول(مثال 1)**الجزء الأول: (6 نقاط)****3. أكمل تلوين الخريطة ومفتاحها : 12****1. اربط البلد المغربي معدل الدخل الفردي السنوي فيه سنة 2005: 12**

\$ 2500	ليبيا
\$.4500	المغرب الأقصى
\$ 8000	الجزائر
\$11000	موريتانيا

2. عرف بسياسة الاصلاح الهيكلي التي طبقتها الجزائر في منتصف التسعينات: 12

مع النصف الثاني من التسعينات طبقت الجزائر سياسة الاصلاح الهيكلي فخفضت في قيمة عملتها ودعمت الخصوصية وحدثت من الاحتكارات كما اتجهت نحو رفع الدعم عن المواد الأساسية والافتتاح على اقتصاد السوق. وقد مهدت هذه السياسة لفتح الأسواق الأوروبية أمام الانتاج الجزائري الذي يحترم المواصفات الأوروبية.

II الجزء الثاني: (12 نقطة) تحليل وثائق**1. هذه الوثائق متنوعة جدولان وخريطة أما الجدول الأول فهو تطوري يتعلق موضوعه بتطور**

نسبة التحضر في دول المغرب العربي منذ منتصف القرن العشرين وقد وردت معطياته في المغرب الكبير لأرمون كولان وهو نفس المصدر الذي أخذت منه معطيات الجدول الثاني (الوثيقة الثالثة) وهو كذلك جدول تطوري يتعلق موضوعه بتضخم حجم بعض المدن المغربية منذ منتصف القرن العشرين. أما الخريطة (الوثيقة الثانية) فتوضح لنا توزيع المدن الهامة في المغرب العربي. فما هي خصائص ظاهرة التحضر في المغرب العربي منذ منتصف القرن العشرين؟ وما هي مظاهر التفاوت الحاد في توزيع المدن بين مناطق المغرب العربي والتضخم الذي شهدته البعض منها منذ منتصف القرن العشرين؟ 13

2. شهدت المجتمعات المغربية انفجارا حضريا منذ منتصف القرن العشرين يظهر من خلال التطور الحاصل في نسبة تحضرها فبعد أن كانت أقلية منها تعيش في المدن لم تتجاوز الربع في كل من ليبيا والمغرب الأقصى والجزائر والنثلث في تونس مثلما تؤكد ذلك الوثيقة الأولى بل إن نسبة سكان المدن هزيلة جدا في موريتانيا 2.3 % حيث كان النظام القبلي هو المهيمن في منتصف القرن العشرين نجد نسبة التحضر في هذه المجتمعات في بداية القرن الواحد والعشرين تضاعفت عدة مرات في ليبيا فأصبحت هي الأعلى بنسبة 86 % في بداية القرن الواحد والعشرين وخاصة في موريتانيا حيث تضاعفت 20 مرة فأصبحت 58 % في نفس الفترة أما في بقية دول المغرب فقد تضاعفت مرة واحدة وهو ما يؤكد على احتفاظ الأرياف بمكانتها في النشاط الفلاحي إلى جانب أنشطة أخرى متعددة. فما هي مظاهر التفاوت في توزيع المدن بين مناطق المغرب العربي وكيف تضخم البعض منها منذ منتصف القرن العشرين؟ 14