

# الجغرافيا

## الدرس 2: مراكز الإعمار الكبرى ومناطق الخلاء السكاني

### عناصر الدرس:

#### المقدمة:

#### I- توزيع السكان في العالم:

##### 1- خريطة توزيع السكان في العالم:

##### 2- توزيع الكثافات السكانية في العالم:

##### أ. مفهوم الكثافة السكانية:

##### ب. تفاوت الكثافات السكانية في العالم:

##### ج. تفاوت الكثافات السكانية بين الأقطار:

#### II- جنوب شرقي آسيا : أهم مراكز الإعمار في العالم:

##### 1- كثافة سكانية عالية جدا:

##### 2- العوامل المفسرة:

#### III- مناطق الخلاء السكاني :

##### 1- مفهوم الخلاء السكاني:

##### 2- عوامل الخلاء السكاني وأمنته منه:

##### 3- دراسة مميزات منطقة خلاء سكاني :الصحراء الكبرى الإفريقية

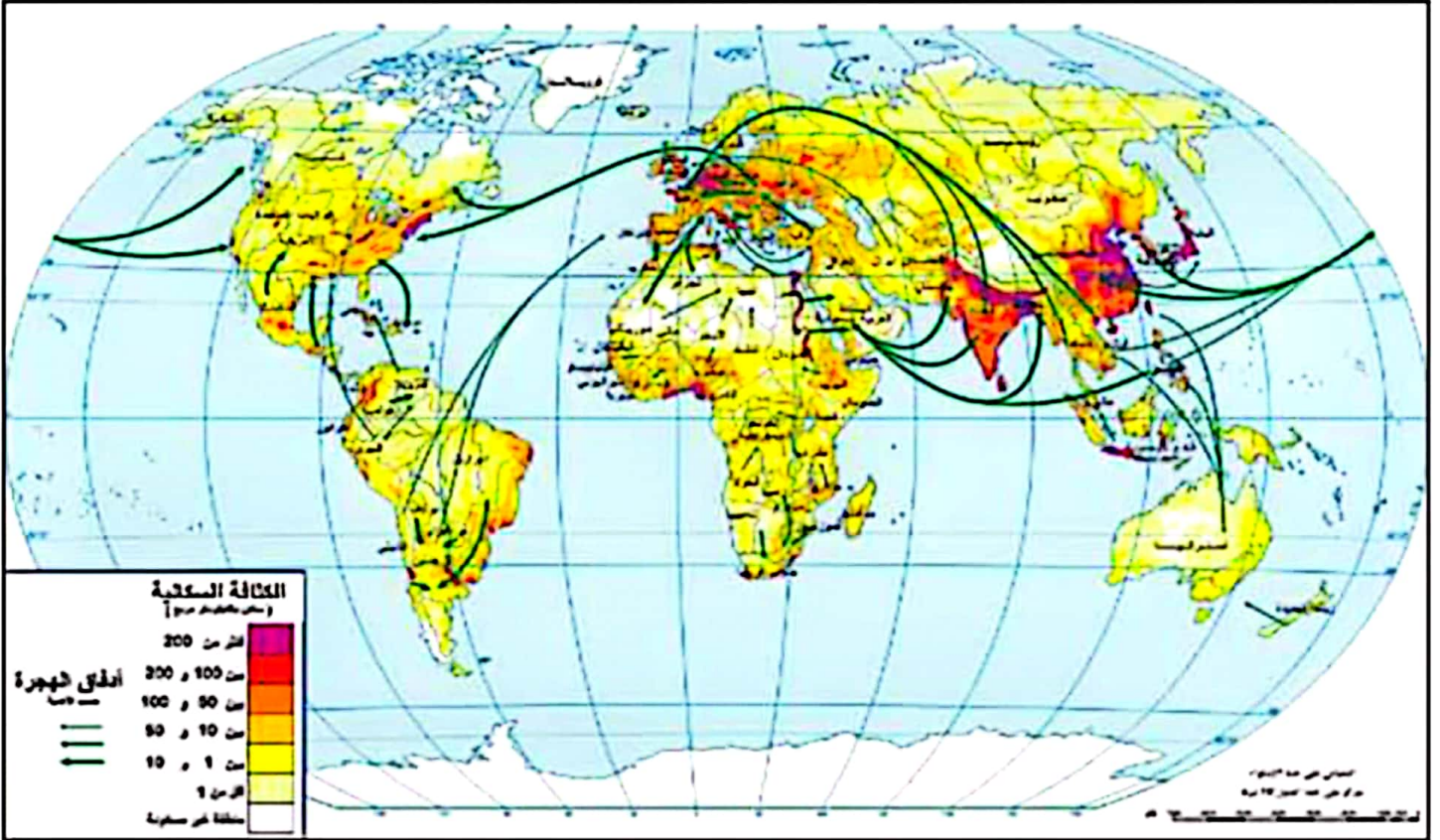
##### الخاتمة :

### المقدمة:

منذ نهاية 2011 تجاوز عدد سكان العالم 7 مليارات نسمة وهم يتوزعون بتفاوت على مناطق العالم . فماهي مظاهر هذا التفاوت ؟ وماهي العوامل التي تفسره؟

#### I- توزيع السكان في العالم :

##### 1. خريطة توزيع السكان في العالم:



تجمع القارة الآسيوية أهم منطقة اعمار ( الجنوب الشرقي ) وأهم منطقة خلاء سكاني في العالم (الوسط والشمال)

#### 2. توزيع الكثافات السكانية في العالم:

##### أ. مفهوم الكثافة السكانية



هي معدل توزيع السكان في الكـم2 وهي تقاس بقسمة عدد السكان على المساحة .

مثال في تونس بلغ معدل الكثافة السكانية 66 س / كم2 سنة 2012

**ب. تفاوت الكثافات السكانية في العالم**

مناطق ذات كثافات عالية (< 100س/ كم2 )	مناطق ذات كثافات ضعيفة (> 10 س / كم2 )
جنوب شرقي آسيا – أوروبا – الشمال الشرقي للولايات المتحدة الأمريكية - الساحل الشرقي للبرازيل.	وسط وشمال آسيا – القارة الأنتركتيكية - أستراليا – المناطق الغابية والصحراوية الإفريقية - شمال أمريكا.

**ج. تفاوت الكثافات السكانية بين الأقطار**

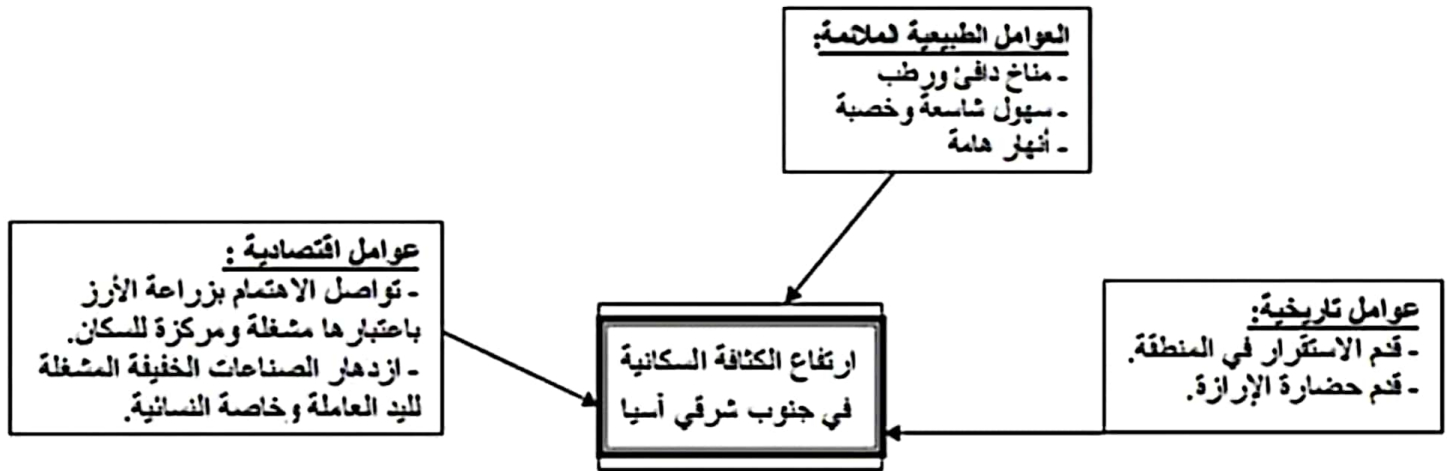
أقطار ذات كثافات عالية (< 100س/ كم2 )	أقطار ذات كثافات ضعيفة (> 10 س / كم2 )
اليابان – الصين – الهند – أندونيسيا – إيطاليا – ألمانيا.	ليبيا – النيجر – أستراليا – روسيا – منغوليا .

**II- جنوب شرقي آسيا : أهم مراكز الإعمار في العالم**

**1. كثافة سكانية عالية جدا:**

تتجاوز الكثافة السكانية في أغلب دول المنطقة 100 س / كم2 فهي في اليابان والهند تفوق 300 س / كم2 وفي البنغلاديش تفوق 1000 س / كم2 وفي سنغفورة تفوق 6000 س / كم2 .

**2. العوامل المفسرة :**



تعدد العوامل المفسرة لارتفاع الكثافات السكانية في جنوب شرقي آسيا وتنوعها.

**III- مناطق الخلاء السكاني**

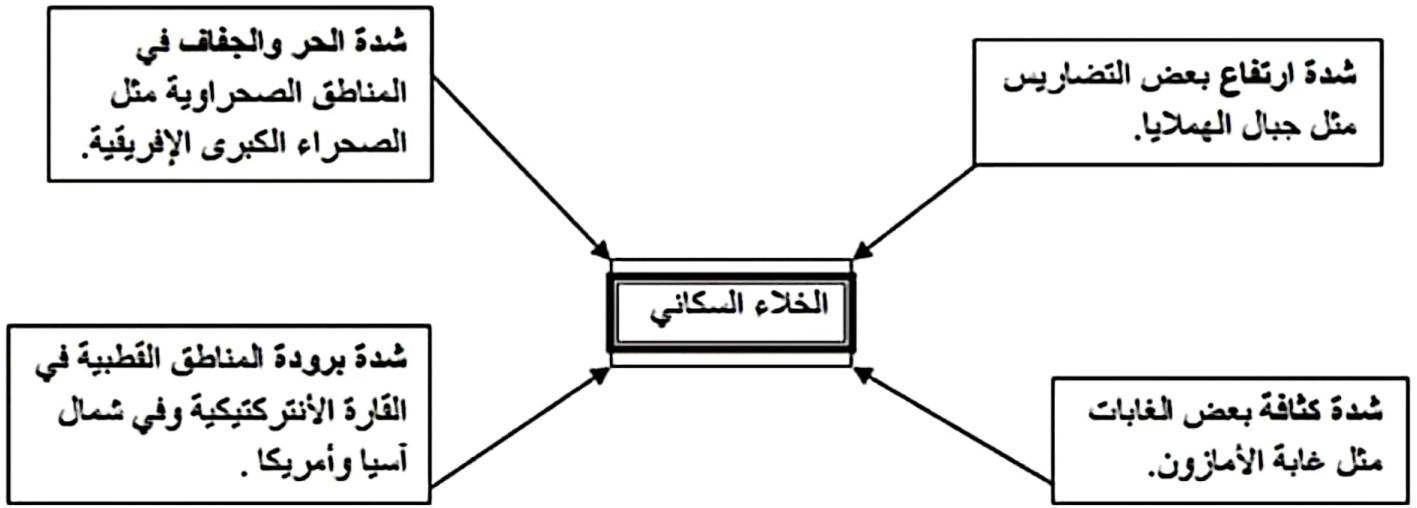
**1. مفهوم الخلاء السكاني:**

يطلق على المناطق الخالية أو شبه الخالية من السكان حيث تقل الكثافات السكانية عن 10 س / كم2 .

**2. عوامل الخلاء السكاني وأمثلة منه:**



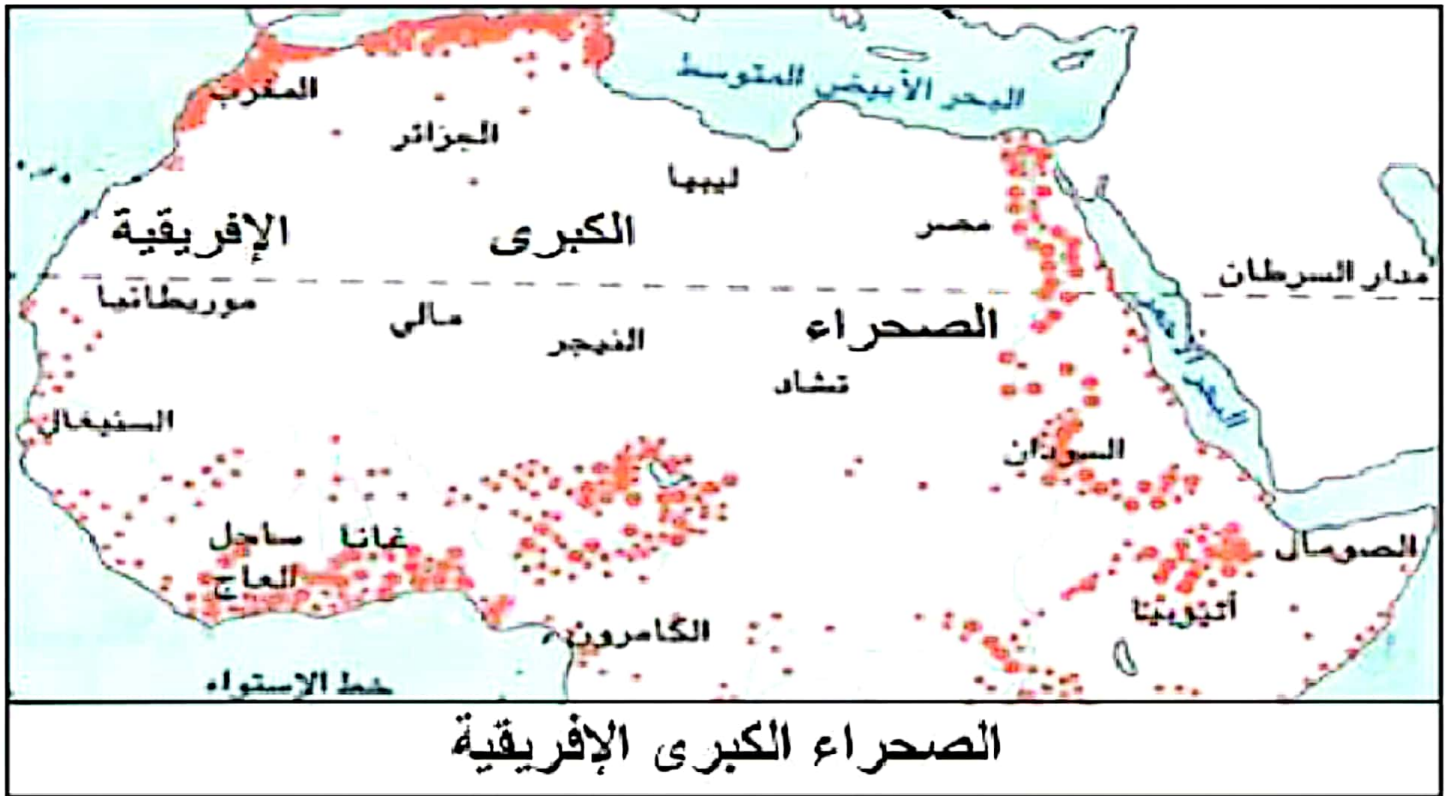




. كل العوامل المفسرة للخلاء السكاني طبيعية

### 3. دراسة مميزات منطقة خلاء سكاني: الصحراء الكبرى الإفريقية

تمتد من الساحل الأطلسي إلى واحة النيل يشقها مدار السرطان وهي تضم عدة دول -



يتسبب الجفاف وانعدام العطاء النباتي أو اقتصاره على بعض النباتات الشوكية مثل الصباريات - في فقر التربة التي تكون غالبا رملية.

#### .توفر ظروف طبيعية منفرة.

تقل الكثافة السكانية فيها عن 10 س/ كم 2 ولايزال النظام القبلي سائدا فيها مثال الطوارق - في الصحراء الجزائرية .

يتسبب الجفاف في المناطق الجنوبية للصحراء في تعطيل النشاط الزراعي ولجوء القبائل - للترحال.

#### : الخاتمة

العوامل الطبيعية كثيرا في تفسير ظاهرتي الاعمار والخلاء السكانيين إلا أن عوامل الاعمار مطلقا طبيعي ثم تدعم بعوامل اقتصادية . فهل يتدخل الانسان من خلال تحركاته



للتخفيف من التفاوت الحاد بين مناطق الاعمار ومناطق الخلاء السكاني ؟

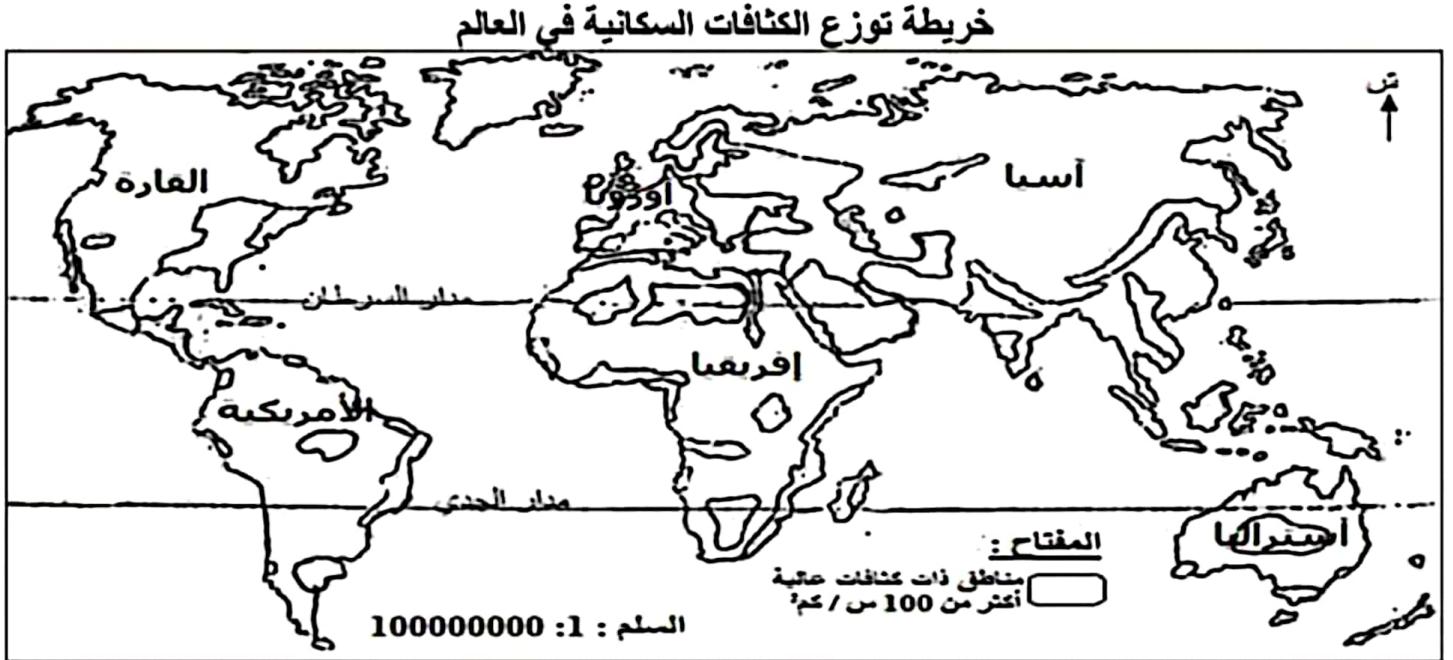


## تمارين الدرس 2: مراكز الإعمار الكبرى ومناطق الخلاء السكاني

### أمثلة من الأسئلة الموضوعية

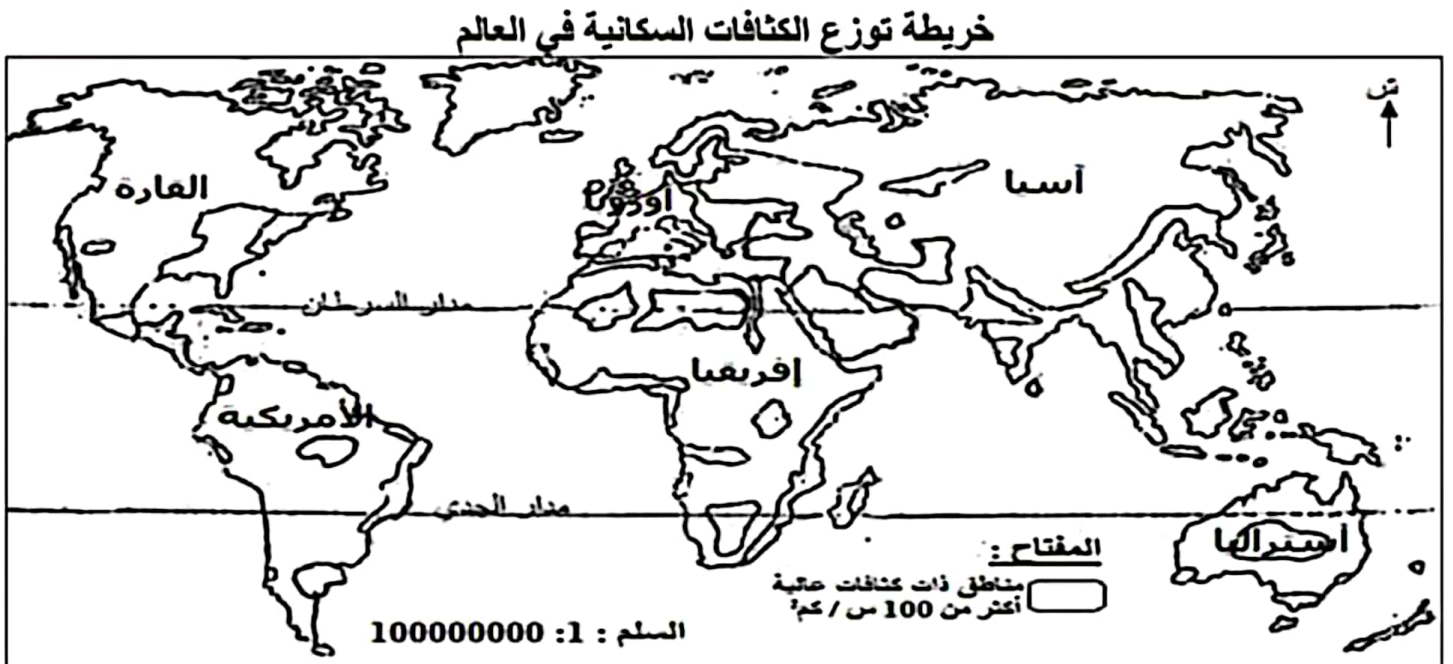
#### المثال الأول:

لون المناطق ذات الكثافات السكانية العالية.



#### المثال الثاني:

لون المناطق الأقل كثافة سكانية في العالم:



#### المثال الثالث:

عرف مفهوم الخلاء السكاني:



### المثال الرابع:

12

أكمل الجدول للتعرف على مميزات الصحراء الكبرى الإفريقية:

.....	المناخ
.....	التربة
.....	الغطاء النباتي
.....	الزراعة

### المثال الخامس:

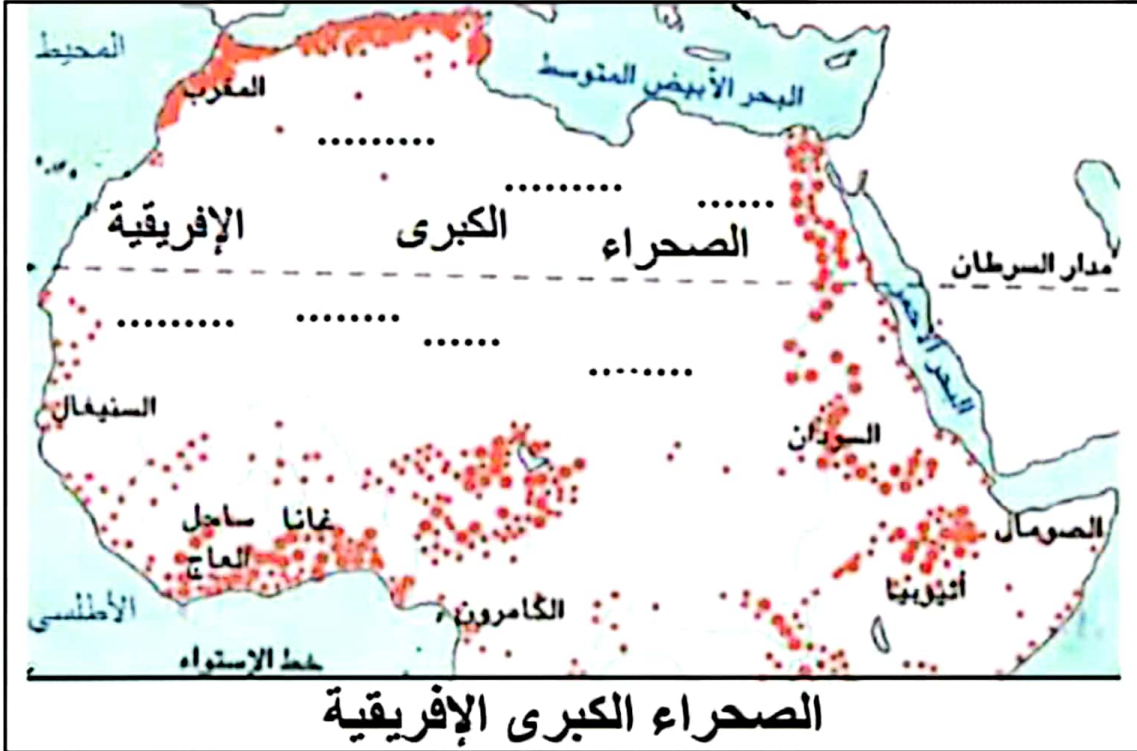
12

اربط المنطقة بسبب خلاها من اسكان :

- المناطق القطبية شمال آسيا
- جبال الهمالايا
- غلابة الأمزون
- الصحراء الكبرى الإفريقية
- شدة الحرارة والجفاف
- كثافة الأشجار وكثرة الرطوبة
- شدة البرودة
- شدة الارتفاع

## أمثلة من الأسئلة التأليفية

### المثال الأول:



1. استعن بهذه الوثيقة لتحديد موقع الصحراء الكبرى الإفريقية .





2. أكمل الفراغات في الوثيقة بتسجيل أسماء هذه البلدان في المكان المناسب (الجزائر- التشاد - النيجر- مالي- مصر- موريتانيا - ليبيا) ثم بين خاصية الكثافة السكانية في هذه المنطقة :

.....  
 .....  
 .....  
 .....

3. بين أثر العوامل الطبيعية على التربة والغطاء النباتي وعلى نمط عيش الإنسان : وأنشطته الاقتصادية :

.....  
 .....  
 .....  
 .....

### المثال الثالث:

العنوان: توزيع الكثافات السكانية في بعض بلدان جنوب شرقي آسيا سنة 2017

البلد	الهند	اليابان	تايلاندا	الفيليبين	أندونيسيا	تاوان
معدل الكثافة السكانية فيه	407 س/كم <sup>2</sup>	335 س/كم <sup>2</sup>	134 س/كم <sup>2</sup>	350 س/كم <sup>2</sup>	140 س/كم <sup>2</sup>	635 س/كم <sup>2</sup>
ترتيبها حسب الأهمية	.....	.....	.....	.....	.....	1

المصدر: البنك العالمي

أجب على الأسئلة بالاعتماد على الوثيقة ومستعينا بما درسته

1. قدم الوثيقة (نوعها وموضوعها ومصدرها) :

.....  
 .....  
 .....  
 .....

2. عرف مفهوم الكثافة السكانية ثم بين خاصيتها في هذه البلدان بعد تسجيل ترتيبها :على الجدول :

.....  
 .....  
 .....  
 .....

3. حدد مكانة هذه البلدان على مستوى الكثافات السكانية في العالم ثم بين العوامل :المفسرة لذلك واختم إجابتك باستنتاج :

.....  
 .....  
 .....  
 .....



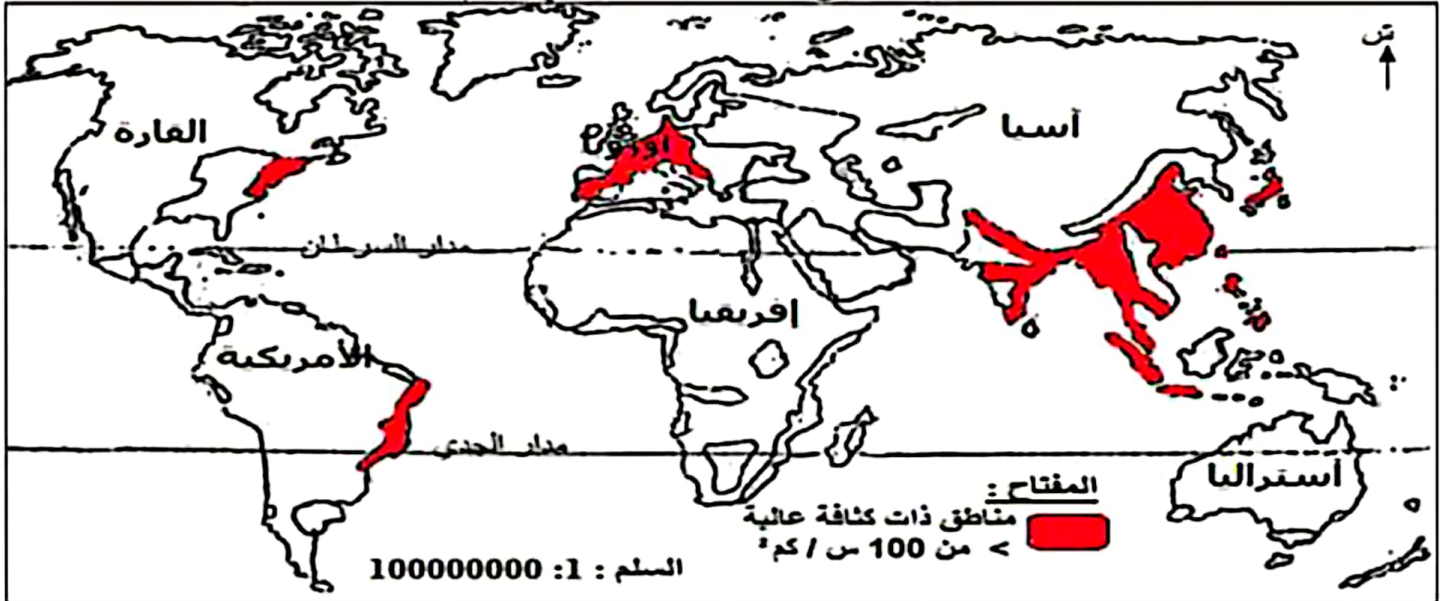


## إصلاح تمارين الدرس 2: مراكز الإعمار الكبرى ومناطق الخلاء السكاني

### إصلاح الأسئلة الموضوعية

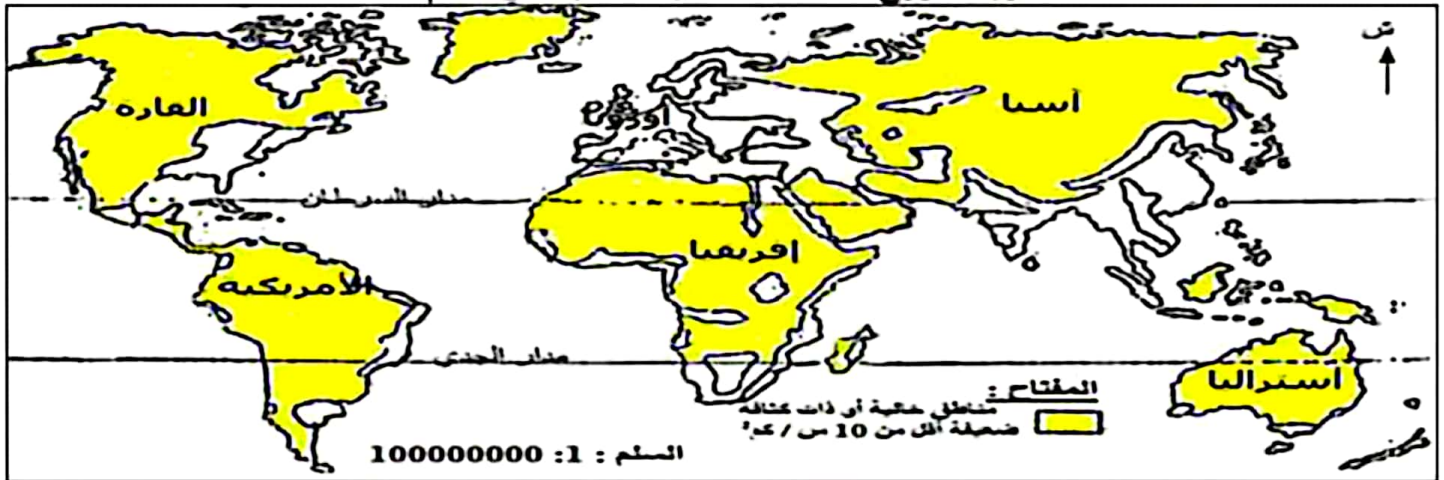
إصلاح المثال الأول:

خريطة توزيع الكثافات السكانية في العالم



إصلاح المثال الثاني:

خريطة توزيع الكثافات السكانية الضعيفة في العالم



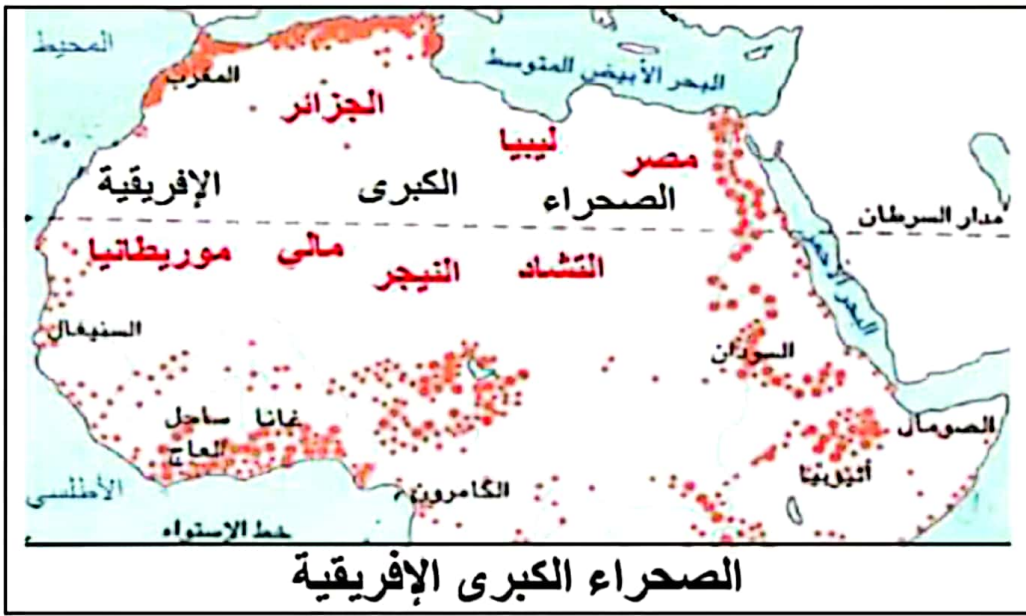
### إصلاح الأسئلة التأليفية

إصلاح المثال الأول:

1. تمتد من الساحل الأطلسي إلى واحة النيل يشقها مدار السرطان وهي تطل على البحر المتوسط من الجهة الشمالية الشرقية

2.





. تتميز الكثافة السكانية بضعفها فهي تقل عن 10 س/ كم2

- يتسبب الجفاف وانعدام العطاء النباتي أو اقتصاره على بعض النباتات الشوكية مثل الصباريات في فقر التربة التي تكون غالبا رملية. وباعتبار هذه الظروف الطبيعية المنقررة فإن الكثافة السكانية فيها تكون ضعيفة فيسود النظام القبلي فيها مثال الطوارق في الصحراء الجزائرية . كما يتسبب الجفاف في المناطق الجنوبية للصحراء في تعطيل النشاط الزراعي ولجوء القبائل للترحال.

### إصلاح المثال الثاني

1. هذه الوثيقة على شكل جدول ثابت يتعلق موضوعه بالكثافات السكانية في بعض دول جنوب شرقي آسيا سنة 2017 وقد أورد البنك العالمي معطياته
- 2.

#### العنوان : توزيع الكثافات السكانية في بعض بلدان جنوب شرقي آسيا سنة 2017

البلد	الهند	اليابان	تايلاندا	الفلبين	أندونيسيا	تاوان
معدل الكثافة السكانية فيه	407 س/كم <sup>2</sup>	335 س/كم <sup>2</sup>	134 س/كم <sup>2</sup>	350 س/كم <sup>2</sup>	140 س/كم <sup>2</sup>	635 س/كم <sup>2</sup>
ترتيبها حسب الأهمية	2	4	6	3	5	1

المصدر: البنك العالمي

الكثافة السكانية هي عدد السكان في الكم2 . ويقاس معدلها في بلد ما بقسمة عدد السكان على المساحة ويبدو من خلال الجدول أن الكثافة السكانية للبلدان المذكورة فيه عالية فهي تتجاوز 100 س في كم2 .

3. تتميز منطقة جنوب شرقي آسيا بأعلى الكثافات في العالم فقد تعددت العوامل التي ساعدت على ذلك فمنذ أقدم العصور كانت هذه المنطقة مهدا لازدهار حضارة الإرازة التي استقطبت عددا هاما من السكان ويُفسر هذا العامل التاريخي بعوامل طبيعية كانت ولا زالت كلها مساعدة على ارتفاع الكثافة السكانية في هذه المنطقة فالمناخ دافئ ورطب والسهول شاسعة وخصبة والأنهار هامة وعديدة وقد دعمت العوامل الاقتصادية هذه الوضعية فقد تواصل الاهتمام بزراعة الأرز باعتبارها مشغلة ومركزة للسكان كما ازدهرت الصناعات الخفيفة المشغلة لليد العاملة وخاصة النسائية.



## الدرس 3: حركة سكانية متباينة في العالم

### عناصر الدرس:

المقدمة:

I- الحركة الديمغرافية في العالم:

1- تطور عدد سكان العالم:

2- التزايد السكاني في أوروبا وفي إفريقيا وأثاره الديمغرافية:

أ. التزايد السكاني في القارتين:

ب. آثاره الديمغرافية:

II- النمو الطبيعي للسكان في العالم:

1- مفهوم النمو الطبيعي للسكان:

2- تفاوت النمو الطبيعي للسكان في العالم:

3- هرم الأعمار : مظاهر الفتوة أو التهرم:

III- الحركة المجالية للسكان في العالم :

1- تعريفها وأهم مكوناتها:

2- أهم أذواق الهجرة في العالم:

3- أسباب الهجرة الخارجية:

4- انعكاسات الهجرة الخارجية:

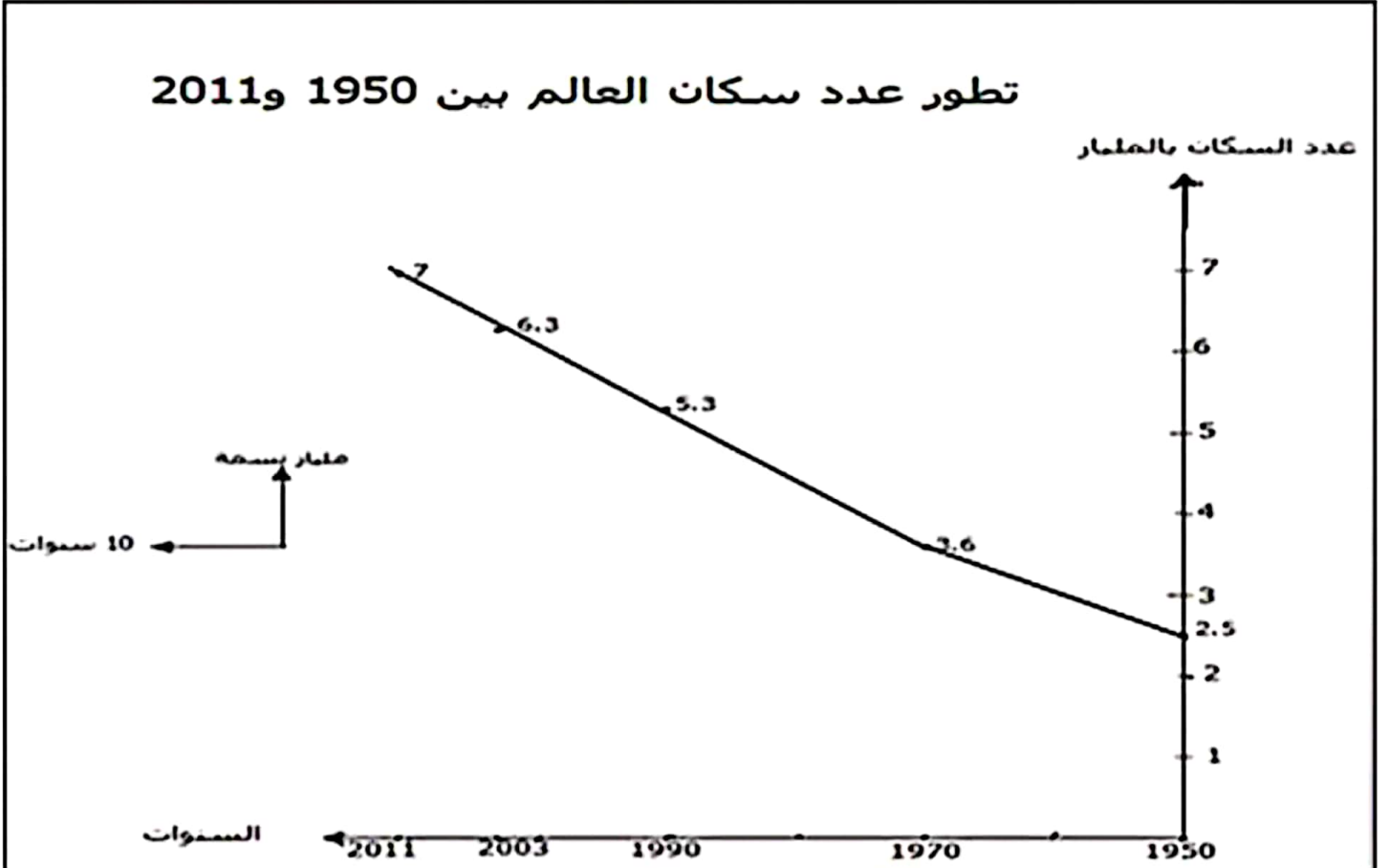
الخاتمة :

### المقدمة:

لكن هذا الارتفاع يخفي تفاوتاً بين XX شهد عدد سكان العالم ارتفاعاً سريعاً منذ منتصف القرن قاراته وأقطاره. فما هي مظاهر هذا التفاوت وما هي أهم أسبابه؟ وكيف يؤثر ذلك على الحركة المجالية للسكان؟

### I- الحركة الديمغرافية في العالم

#### 1. تطور عدد سكان العالم:



ازدهج عدد سكان العالم من 2.5 مليار نسمة سنة 1950 إلى 7 مليارات نسمة سنة 2011





. تضاعف سكان العالم أكثر من مرة ونصف في ظرف 61 سنة .  
**سرعة الازدياد السكاني في العالم**

**التزايد السكاني في أوروبا وفي إفريقيا وآثاره الديمغرافية .2:**  
**أ. التزايد السكاني في القارتين**

في إفريقيا	في أوروبا
ازداد عدد سكان إفريقيا في نفس الفترة بـ 495 مليون نسمة . ← تضاعف سكان القارة مرة ونصف ← <b>تزايد سكاني سريع .</b>	ازداد عدد سكان أوروبا بـ 255 مليون نسمة في ظرف $\frac{1}{3}$ قرن من 1970 إلى 2003 . ← <b>تزايد سكاني بطيء .</b>

**ب. آثاره الديمغرافية :**

في إفريقيا	في أوروبا
- نقص أو عدم تطبيق سياسة التنظيم العائلي مما يجعل عدد أفراد العائلة كبير . ← مستوى عيش ضعيف أو ضعيف جدا يجعل المجتمع يعاني من عدة مشاكل اقتصادية واجتماعية .	- محدودية أفراد العائلة نظرا للتنظيم التلقائي للانجاب رغم تشجيع الدول الأوروبية عليه . ← مستوى عيش مرتفعه .

## **II- النمو الطبيعي للسكان في العالم :**

1. مفهوم النمو الطبيعي للسكان :

نسبة النمو الطبيعي للسكان هي الفارق بين نسبة الولادات ونسبة الوفيات . خلال سنة .

**2. تفاوت النمو الطبيعي للسكان في العالم :**

بلدان ذات نمو ضعيف > 1 % أو سلبى > 0 %	بلدان ذات نمو متوسط بين 1 و 2 %	بلدان ذات نمو مرتفع < 2 %
- بلدان العالم المتقدم - بلدان الاتحاد السوفياتي سابقا - الصين و الأوروغواي	- أغلب بلدان أمريكا اللاتينية - بلدان شمال وجنوب إفريقيا - بعض بلدان جنوب آسيا	- أغلب بلدان القارة الإفريقية - بعض بلدان آسيا الجنوبية

**في حين تعاني العديد من بلدان إفريقيا من سرعة النمو الطبيعي تعاني العديد من البلدان المتقدمة من بقاء النمو الطبيعي الذي يصبح سلبيا في العديد منها مثل...ألمانيا وإيطاليا**

## **3. هرم الأعمار : مظاهر الفتوة أو التهرم :**

يتميز هرم الأعمار في البلدان المتقدمة بقاعدة قليلة العرض نظرا لقلة الأطفال وقمة عريضة - نسبيا نظرا لكثرة الشيوخ .

يتميز هرم الأعمار في البلدان النامية بقاعدة عريضة نظرا لكثرة الأطفال وقمة حادة نظرا لقلة الشيوخ .

**التهرم السكاني في البلدان المتقدمة والفتوة السكانية في البلدان النامية**

**III- الحركية المجالية للسكان في العالم :**



## 1. تعريفها وأهم مكوناتها:

تتمثل الهجرة في تغيير مقر الإقامة بصفة دائمة أو مؤقتة داخل حدود الوطن أو في اتجاه الخارج وهي تشمل العمال كما تشمل الاطارات العليا والكفاءات العلمية مثل الأدمغة.

## 2. أهم أدفاق الهجرة في العالم :

مناطق وبلدان الانطلاق	مناطق وبلدان الاستقبال
- تنطلق أغلب أدفاق الهجرة من البلدان النامية الآسيوية والإفريقية والأمريكية وتتركز أساسا على الهجرة العمالية. - تنطلق هجرة الأدمغة من الأقطار الآسيوية وخاصة من بلدان الإتحاد السوفياتي سابق وأوروبا الشرقية .	- تتجه الهجرة العمالية نحو البلدان المتقدمة الرأسمالية والبلدان النامية التي تشهد حركة اقتصادية نشيطة مثل الأرجنتين وجنوب إفريقيا ونيجيريا وبلدان الخليج. - يقتصر اتجاه هجرة الأدمغة على أوروبا الغربية وأمريكا الشمالية.

تنوع كل من بلدان انطلاق وبلدان استقبال المهاجرين لكن الهجرة العمالية تبقى المهيمنة على أدفاق الهجرة العالمية.

## 3. أسباب الهجرة الخارجية:

- اقتصادية: قلة تطور اقتصاد البلدان النامية وعجزه عن توفير مواطن الشغل الكافية والكفيلة - بتحسين مستوى العيش
- اجتماعية ديمغرافية: سرعة النمو الطبيعي في البلدان النامية وارتفاع نسبة الشباب - المطالبين بالشغل والراغبين في تحسين مستوى عيشهم
- أسباب أخرى متنوعة: سياسية كالخلافات والحروب وطبيعية كالفيضانات أو الجفاف... - . وتقنية كعدم توفر الاختصاص المناسب في البلد الأصلي

## 4. انعكاسات الهجرة الخارجية :

على بلدان الانطلاق	على بلدان الاستقبال	
- التخفيف من حدة البطالة - تحسن مستوى عيش المهاجرين الذين قرروا العودة النهائية - توفير العملة الصعبة	- تغطية النقص في اليد العاملة والأدمغة . - تغطية ضعف النمو الطبيعي باعتبار ارتفاع نسبة النمو لدى المهاجرين الشباب. - مساهمة الشباب المهاجر في تنمية اقتصادها.	أ. التأثير الإيجابي
- خلل في التركيبة الجنسية للفئة العمرية بين 20 و30 سنة في المناطق التي تحتد فيها حركة الهجرة - صعوبة اندماج الأطفال في حالة العودة النهائية المبكرة . - الاضرار بالاقتصاد المحلي الفلاحي في صورة ترك الأرض بورا . - عدم الاستفادة من خبرة الاطارات والعملة المختصين الذين صرفت عليهم أموال طائلة .	- انزعاجها من المهاجرين العاجزين عن الاندماج. - في فترات الأزمات يصبح المهاجرون عبءا ثقيلًا فتتم التضحية بهم قبل غيرهم. - عدم ضمان الدول المستقبلة للمهاجرين لردود أفعال مجتمعتها تجاه المهاجرين خاصة من بعض المتطرفين . ( العنصرية )	ب. التأثير السلبي

تباين انعكاسات الهجرة بالنسبة لصنفي البلدان.

## : الخاتمة



تعتبر الحركة المجالية وخاصة الهجرة الخارجية إحدى الحلول الهامة للحد من تفاوت الحركة الديمغرافية في العالم . فهل نجحت في الحد من هذا التفاوت؟





## تمارين الدرس 3: حركة سكانية متباينة في العالم

### أمثلة من الأسئلة الموضوعية

#### المثال الأول:

أكمل الفراغات للتعرف على مفهوم الهجرة الخارجية هي..... مقر الإقامة بصفة دائمة أو ..... في اتجاه .....لعدة أسباب وهي تشمل ..... والإطارات العليا

#### المثال الثاني:

سجل هذه المناطق أو البلدان في المكان المناسب من الجدول:(أوروبا الغربية - جنوب آسيا - شمال إفريقيا - بلدان الخليج )

مناطق أو بلدان استقبال المهاجرين	مناطق أو بلدان انطلاق المهاجرين
.....	.....

#### المثال الثالث:

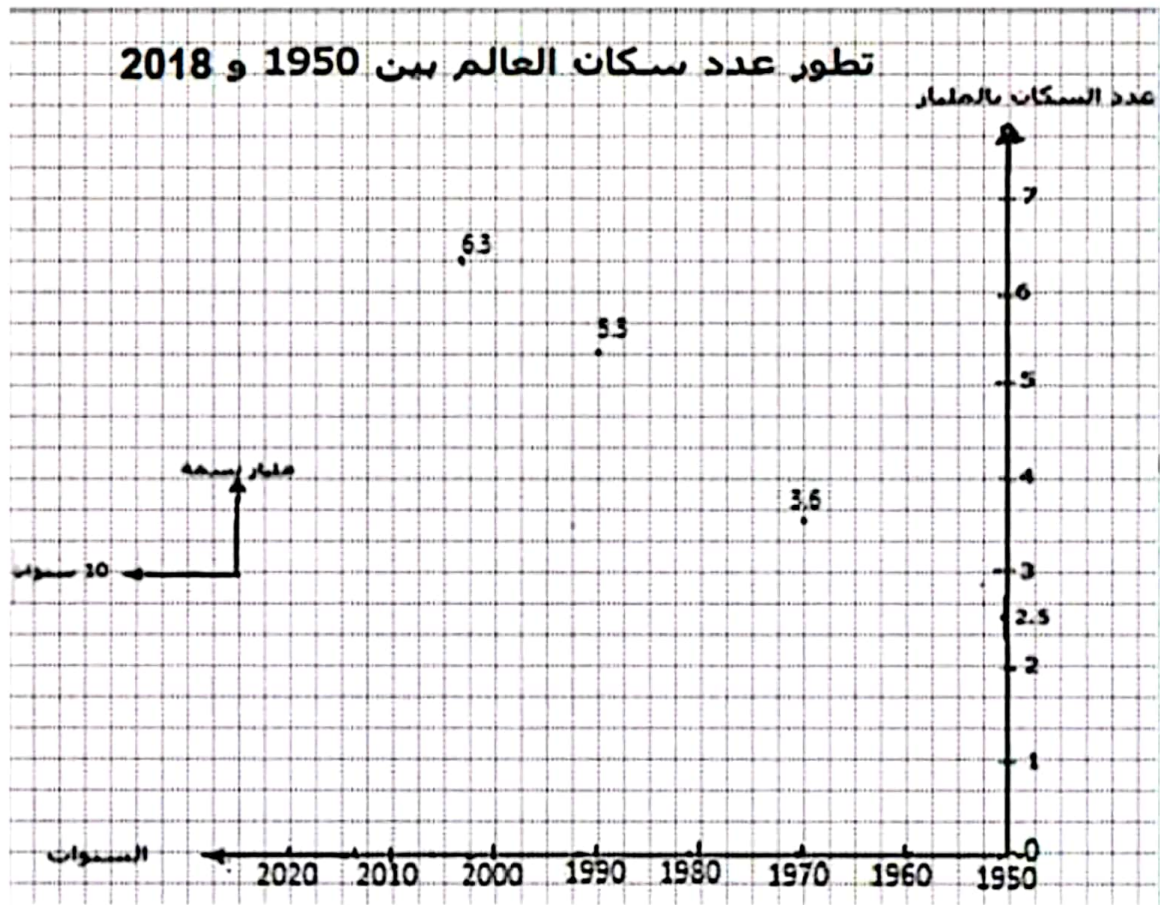
أكمل تحويل هذا الجدول إلى رسم بياني على شكل منحني

### تطور عدد سكان العالم بين 1950 و2018

السنة	1950	1970	1990	2003	2011	2018
عدد السكان بالمليار	2.5	3.6	5.3	6.3	7	7.5

المصدر: موقع حول الإحصائيات السكانية في العالم





#### المثال الرابع:

اربط المهاجرين بوجهتهم الرئيسية:

- الأمريكيون اللاتينيون
- المغاربة والأوروبيون الشرقيون
- المصريون والسودانيون والباكستانيون
- أوروبا الغربية
- بلدان الخليج
- أمريكا الشمالية

### أمثلة من الأسئلة التأليفية

#### المثال الأول:

استغلال وثيقة (12 نقطة):

العنوان : الأصل الجغرافي للمهاجرين إلى فرنسا بين 1999 و 2005

الأصل الجغرافي للمهاجرين	عدد المهاجرين بالمليون	نسبتهم من مجموع المهاجرين
بلدان أوروبية	1.700	36.5 %
بلدان مغربية	1.500	32.5 %
بلدان إفريقية جنوب الصحراء	0.601	13 %
بقية العالم	0.830	18 %
المجموع	..... مليون	100 %

المصدر : موسوعة ويكيبيديا من مقال حول الهجرة إلى فرنسا

1. قدم نوع الوثيقة وموضوعها وأكمل الفراغ فيها:
2. ابحث عن عدد المهاجرين من أصل إفريقي (..... مليون) ونسبتهم من مجموع المهاجرين إلى فرنسا ..... %
3. ماذا ينتج؟ (نسبة ضعيفة أم متوسطة أم عالية).....
6. حدد وتبني أغلب المهاجرين ( عملة أو أدمغة ) والأسباب الاقتصادية والاجتماعية لهجرتهم.

## المثال الثاني:

تحليل موضوع (10 نقاط):

عرف من خلال فقرة بأصناف الهجرة الخارجية وأهم أسبابها.

يمكن تحليل هذا الموضوع كما يلي:

- /2 في المقدمة: تعريف عام للهجرة الخارجية ثم طرح الاشكالية بخصوص جوهر الموضوع  
/6 في الجوهر: تحليل أسباب الهجرة الخارجية  
/2 في الخاتمة: استنتاج وفتح آفاق بخصوص نتائج الهجرة الخارجية

## المثال الثالث: تحرير فقرة

**الموضوع:** عرف من خلال فقرة بأهم أسباب الهجرة الخارجية العمالية وانعكاساتها الايجابية والسلبية على كل من بلدان انطلاق وبلدان استقبال المهاجرين مع ضرورة ذكر بعض الأمثلة من أدفاق الهجرة العمالية العالمية.





## إصلاح تمارين الدرس 3: حركة سكانية متباينة في العالم

### إصلاح الأسئلة الموضوعية

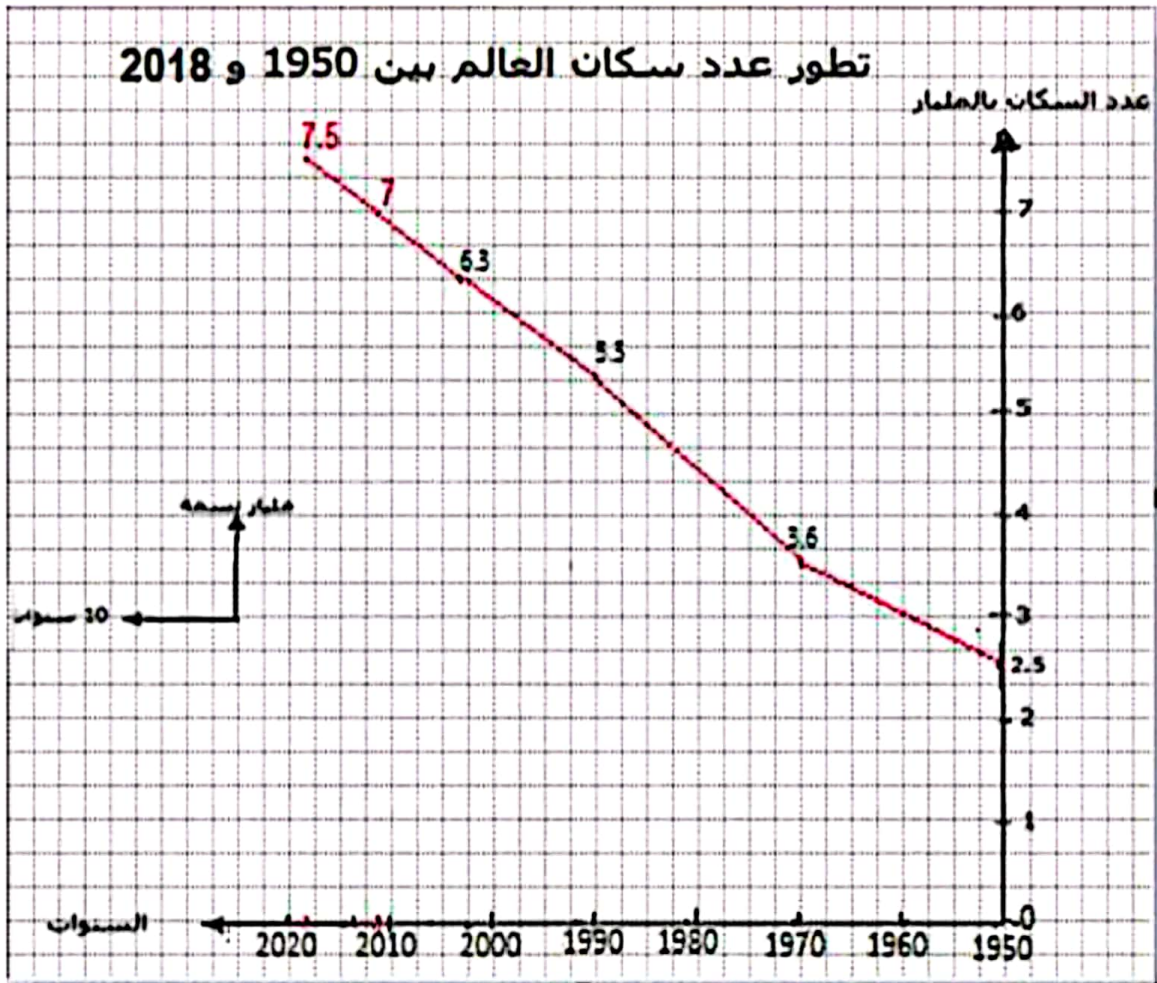
#### إصلاح المثال الأول:

هي تغيير مقر الإقامة بصفة دائمة أو مؤقتة في اتجاه الخارج لعدة أسباب وهي تشمل العملة والإطارات العليا.

#### إصلاح المثال الثاني:

مناطق أو بلدان انطلاق المهاجرين	مناطق أو بلدان استقبال المهاجرين
جنوب آسيا - شمال إفريقيا	أوروبا الغربية - بلدان الخليج

#### إصلاح المثال الثالث:



#### إصلاح المثال الرابع:

- الأمريكيون اللاتينيون
- المغاربة والأوروبيون الشرقيون
- المصريون والسودانيون والباكستانيون
- أوروبا الغربية
- بلدان الخليج
- أمريكا الشمالية

### إصلاح الأسئلة التأليفية



### المقدمة:

تتمثل الهجرة الخارجية في تغيير مقر الإقامة في اتجاه خارج الوطن بصفة مؤقتة أو دائمة وهي تشمل العمال والإطارات العليا وتهم عدة مناطق من العالم. فما هي أسباب الهجرة الخارجية العمالية؟ وما هي انعكاساتها على كل من بلدان انطلاق وبلدان استقبال المهاجرين؟

### الجوهر:

إن تيارات الهجرة العمالية هامة في عدة مناطق من العالم فينطلق أغلبها من البلدان النامية الآسيوية والإفريقية والأمريكية في اتجاه البلدان المتقدمة الرأسمالية مثل هجرة المغاربة نحو أوروبا كما تستقبل بعض البلدان النامية يدا عاملة أجنبية نظرا للنمو الاقتصادي السريع الذي تشهده مثل الأرجنتين وجنوب إفريقيا ونيجيريا وبلدان الخليج.

وتتعدد أسباب الهجرة العمالية العالمية منها أسباب اقتصادية حيث أن اقتصاد العديد من الدول النامية قليل التطور وعاجز عن توفير مواطن الشغل الكافية والكفيلة بتحسين مستوى العيش. ومنها أسباب اجتماعية ديمغرافية فالنمو الطبيعي في البلدان النامية سريع ونسبة الشباب المطالبين بالشغل عالية وفي المقابل نجد وضعية عكسية في البلدان المتقدمة وخاصة منها الرأسمالية التي تستقبل عددا هاما من العملة لتلبية حاجياتها الاقتصادية والديمغرافية.

وتتعدد انعكاسات الهجرة على كل من بلدان انطلاق وبلدان استقبال المهاجرين فمنها الإيجابي مثل التخفيف من حدة البطالة وتحسن مستوى عيش المهاجرين الذين قرروا العودة النهائية وتوفير العملة الصعبة بالنسبة لبلدان انطلاق المهاجرين أما بالنسبة لبلدان استقبال المهاجرين فإنها تغطي نقصها من اليد العاملة وضعف نموها الطبيعي باعتبار ارتفاع نسبة النمو لدى المهاجرين الشباب. وبذلك يساهم الشباب المهاجر في تنمية اقتصاد البلدان التي هاجر إليها بصفة فعالة.

إلا أن للهجرة العمالية العالمية العديد من الانعكاسات السلبية على كل من بلدان انطلاق وبلدان استقبال المهاجرين فالعديد من بلدان الانطلاق تعاني من خلل في التركيبة الجنسية للفئة العمرية بين 20 و30 سنة في المناطق التي تحتد فيها حركة الهجرة كما تعاني من صعوبة اندماج الأطفال في حالة العودة النهائية المبكرة وتتضرر فلاحتها نظرا لترك الأرض بورا أما بلدان الاستقبال فهي أيضا تعاني من بعض الانعكاسات السلبية للهجرة العمالية في حالة عجز المهاجرين عن الاندماج فتكون ردود فعل المجتمعات المستقبلية لهم سينة إلى حد العنصرية وقد تلجأ السلط في هذه البلدان إلى طرد المهاجرين من العمال في حالات الأزمات وخاصة إذا كانوا من المهاجرين غير الشرعيين

### الخاتمة:

إن الهجرة الخارجية وخاصة منها العمالية بفضل أعدادها المرتفعة تساهم في ايجاد التوازن بين مناطق العالم على مستوى الحاجيات الديمغرافية في ظل تفاوت الأوضاع الاقتصادية. فهل تنجح في تحقيق هذا التوازن؟ وهل تنجح في التقريب بين المجتمعات؟

