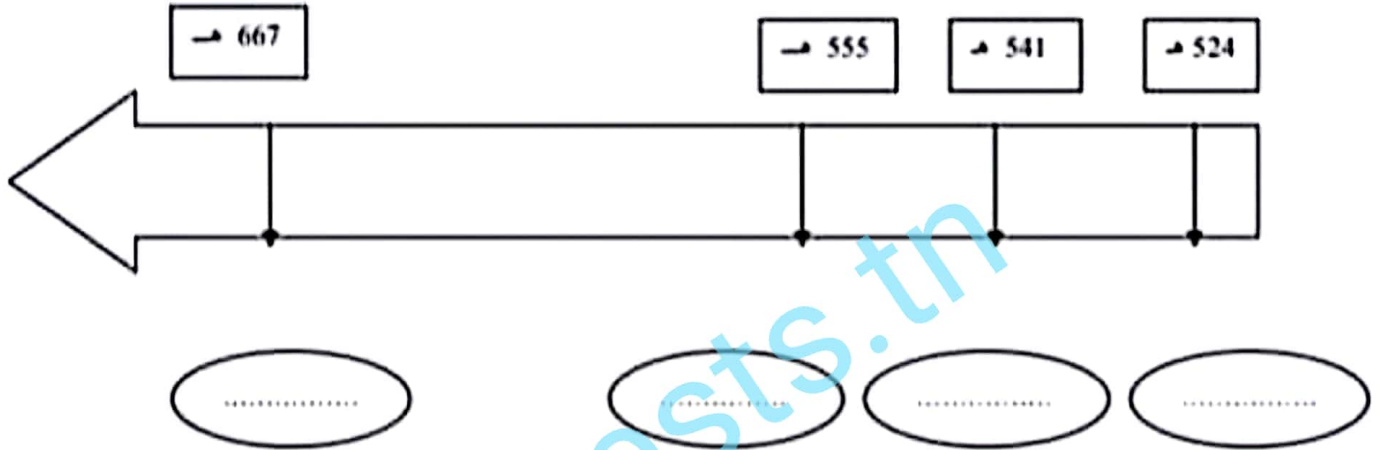


إعدادية الامتياز بالمنستير	اختبار كتابي	الثلاثي الأول
السنة الدراسية: 2010-2011	عدد: 1 تاريخ	التوقيت :
الاسم واللقب: القسم: الرقم: الأستاذ: فوزي بن نجمة		

القسم الأول: 6 نقاط

1 - ضع الأحداث التالية أمام التواريخ المناسبة لها (04 نقاط)

تأسيس الدعوة الموحدية ، سقوط الدولة الموحدية ، سقوط المرابطين ، إلحاق الفريجية بالدولة الموحدية



2 - عرف المصطلحات التالية: (02 نقاط)

- الريقية:
- السوس:

القسم الثاني : 12 نقطة

حرر فقرة مترابطة العناصر تشرح ظروف تأسيس الدولة الحفصية معتمدا العناصر التالية:

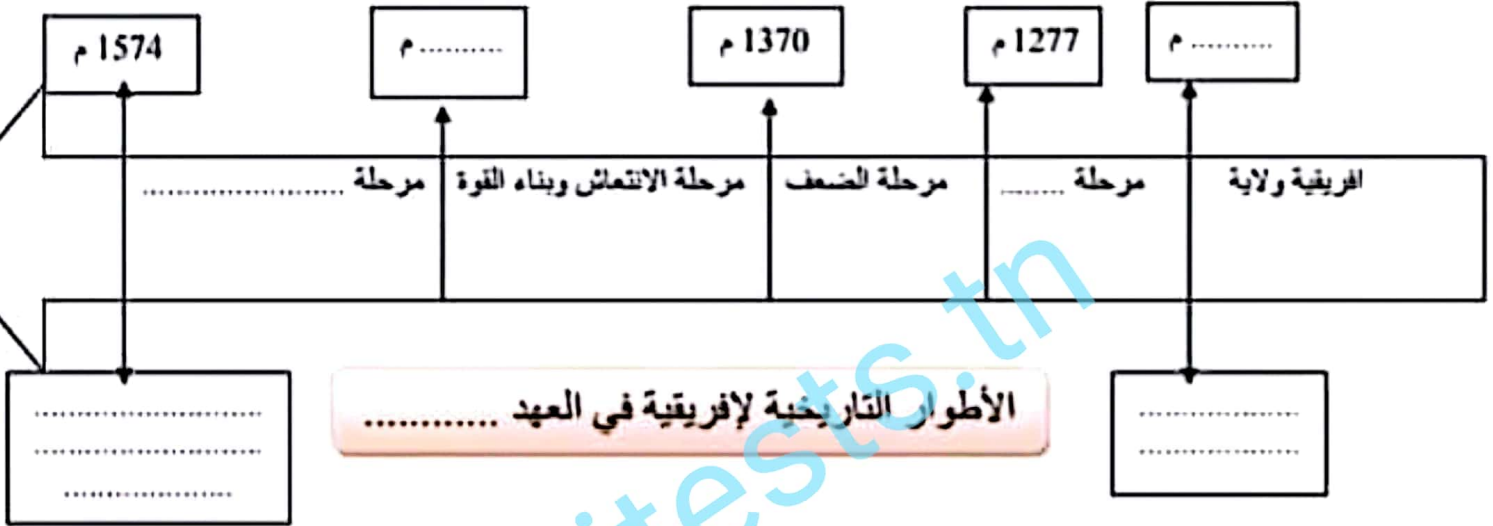
- ❖ حدد تاريخ الدولة الحفصية وانكر مؤسسها
- ❖ اعد أطوارها
- ❖ أوضح العوامل التي ساهمت في ازدهار الحياة الفكرية

التحرير :

إعدادية الامتياز بالمنستير	اختبار كتابي	الثلاثي الأول
السنة الدراسية: 2010-2011	عدد: 1 تاريخ	التوقيت:
الاسم واللقب:	القسم:	الرقم:
الاسم واللقب:	الاسم واللقب:	الاسم واللقب:

القسم الأول: 6 نقاط

1 - اتمم السلم بما يناسب من التواريخ و الأحداث ثم الفترات (03 نقاط)



2 - اعرف الشخصيات التالية: (03 نقاط)

- أبو زكريا الحفصي:
- محمد بن تومرت:

القسم الثاني : 12 نقطة

حرر فقرة مترابطة العناصر توضح فيها مراحل توحيد بلاد المغرب والأندلس على يد الموحدين معتمدا العناصر التالية:

- ❖ حدد ظروف تأسيس دولة الموحدين
- ❖ استخرج الظروف التي استغلها الموحدون لقيام دولتهم
- ❖ بين المجال الذي امتدت عليه

التحرير :

إعدادية الامتياز بالمنستير	اختبار كتابي	اللائحة الأول
السنة الدراسية: 2010-2011	عدد: تاريخ	التوقيت :
الاسم واللقب:	القسم:	الرقم:
الاسم واللقب:	القسم:	الرقم:

القسم الأول: 6 نقاط

1 - أتمم الجدول التالي بما يناسب (03 نقاط)

20

امتدادها	تاريخ التأسيس	المؤسس	
.....	دولة الموحدين
.....	دولة الحفصيين

2 - عرف المصطلحات التالية: (03 نقاط)

- ملوك الطوائف:
- الحفصيون:
- مصمودة:

القسم الثاني : 12 نقطة

حرر فقرة مترابطة العناصر تشرح ظروف تأسيس الدولة الحفصية معتمدا العناصر التالية:

❖ حدد تاريخ الدولة الحفصية واذكر مؤسسها

❖ اعدد أطوارها

❖ أوضح العوامل التي ساهمت في ازدهار الحياة الفكرية


التحرير :

- أصنف الدول في العالم حسب مؤشر التنمية البشرية
- استخلص منها تصنيف بلدان العالم المتقدم منها والنامي

التحرير

Tunitests.tn

إعدادية الامتياز بالمنستير	اختبار كتابي	الثلاثي الأول
السنة الدراسية: 2010-2011	عدد: جغرافيا	التوقيت:
الاسم واللقب:	القسم:	الرقم:
الاسم واللقب:	القسم:	الرقم:



القسم الأول: 6 نقاط

1 - اتمم الجدول التالي (03 نقاط).

اتمم جدول تصنيف أقطار العالم إلى مجموعات حسب مستوى الثروة (اضع مثلا من الدول عن كل مجموعة شبيها بالمثال المذكور) .

دول غنية جدا أكثر من 10000 دولار	دول غنية من 4000 إلى 10000 د	دول فقيرة من 400 إلى 1000 د	دول فقيرة جدا أقل من 400 د
..... كندا المكسيك المودان النيجر

2 - عرف المصطلحات التالية: (03 نقاط)

- أمل الحياة عند الولادة :

.....
.....
.....
.....
.....
.....
.....

القسم الثاني : 12 نقطة

المجموعة الأولى	أصناف المجموعات	قيمة المؤشر	بعض الدول المنتمية
المجموعة الأولى	ذات مؤشر تنمية بشرية عال جدا	تتراوح بين 0.879 و 1	- أغلب الدول المتقدمة - بعض بلدان الجنوب مثل تايوان وكوريا الج
المجموعة الثانية	ذات مؤشر تنمية بشرية عال	تتراوح بين 0.700 و 0.879	- روسيا وبعض دول أوروبا الشرقية - بعض الدول الصناعية الجديدة كالبرازيل والدول الناطقة
المجموعة الثالثة	ذات مؤشر تنمية بشرية متوسط	تتراوح بين 0.600 و 0.700	- أغلبها آسيوية - دول من أوروبا الوسطى. - بعض الدول الإفريقية مثل تونس وجنوب إفريقيا.
المجموعة الرابعة	ذات مؤشر تنمية بشرية ضعيف	أقل من 0.600	- بلدان شبه القارة الهندية (الهند، باكستان أفغانستان) - بلدان إفريقيا جنوب الصحراء.

احرر

فقرة

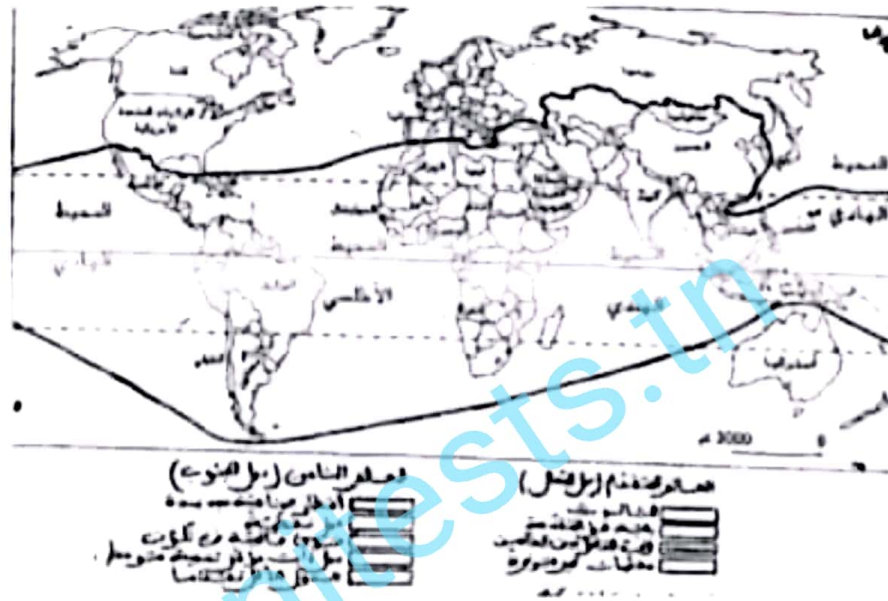
مترابطة العناصر تشرح تفاوت مؤشر التنمية البشرية بين بلدان العالم معتمدا الجدول و العناصر التالية :

ع ا عرف مؤشر التنمية

القسم الأول: 6 نقاط

1 - اتمم الخريطة التالية (03 نقاط)

اتمم خريطة أقطار العالم بالتعرف إلى موقع العالم النامي وتلوينه بالأصفر.



2 - عرف المصطلحات التالية: (03 نقاط)

- الخدمات :

- التلوث :

القسم الثاني : 12 نقطة.

- احرر فقرة مترابطة العناصر تشرح مظاهر التفاوت في العالم و تصنف فيها بلدان العالم المتقدم منها والنامي.
معتدا العناصر التالية :

➤ أشير إلى عدم تجانس العالم

➤ أعرف العالم المتقدم وصنف دوله

➤ اعرف العالم النامي وأصنف مجموعاته

➤ بماذا تتميز العلاقة بين الدول المتقدمة والنامية

التحرير

الثلاثي الأول

التوقيت :

اختبار كتابي

عدد 1: جغرافيا

إعدادية الامتياز بالمنستير

السنة الدراسية: 2010-2011

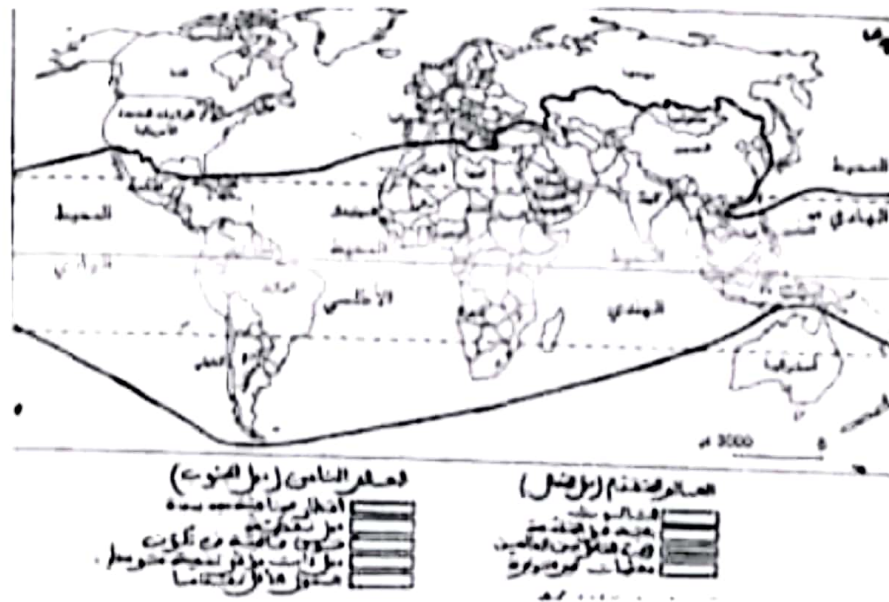
الاسم واللقب: القسم: الرقم: الأستاذ: فوزي بن نجمة

20

القسم الأول: 6 نقاط

1 - اتمم الخريطة التالية (03 نقاط)

اتمم خريطة أقطار العالم بالتعرف إلى موقع العالم المتقدم وتلوينه بالأحمر.



2 - عرف المصطلحات التالية: (03 نقاط)

الخدمات :

الثالث :

القسم الثاني : 12 نقطة.

- احذر فقرة مترابطة العناصر تشرح مكانة الخدمات في الاقتصاد الأمريكي معتمدا العناصر التالية :
 ➤ أعرّف الخدمات

➤ أبين مكانة الخدمات في التشغيل والنتاج الداخلي الخام

➤ اذكر أصناف الخدمات

➤ ابرز حصيلة ميزان الخدمات

التحرير

إعدادية الامتياز بالمنستير	اختبار كتابي	الثلاثي الأول
السنة الدراسية: 2010-2011	عدد 1: جغرافيا	التوقيت :
الاسم واللقب:	القسم:	الرقم:
الاسم واللقب:	القسم:	الرقم:

القسم الأول: 6 نقاط

1- اتمم الجدول التالي (03 نقاط).

اتمم الجدول التالي بوضع علامة (+) أمام المجموعة التي تستجيب للحاجيات الأساسية لسكان {غذاء-تعليم-صحة}.
علامة (-) أمام المجموعة التي لا تستجيب لذلك .

المجموعة	قدرة على الاستجابة	غير قادرة على الاستجابة
إفريقيا جنوب الصحراء		
آسيا الجنوبية		
أوروبا الغربية		

2 - عرف المصطلحات التالية: (03 نقاط)

- صناعة الجيل الثالث :
- الثروة :

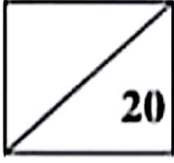
القسم الثاني : 12 نقطة

احرر فقرة مترابطة العناصر تشرح مظاهر القوة الصناعية الأمريكية معتمدا العناصر التالية :

- برز مكانة الصناعة
- استخرج المؤشرات الدالة على تنوع الإنتاج
- أبين مكانة الشركات الأمريكية في العالم
- أوضح تحولات المجال الصناعي الأمريكي

التحرير

اللاوي الاول	عدد ا: التاريخ	السنة الدراسية: 2010-2011
التوقيت :	القسم: الرقم:	الاسم واللقب:
الاستاذ: فوزي بن		نجمة



القسم الأول: 6 نقاط

1 - اتم الجدول التالي (03 نقاط).

اتم الجدول التالي بوضع المؤسس وتاريخ التأسيس .

الحزب	المؤسس	تاريخ التأسيس
الحزب الحر الدستوري التونسي		
جامعة عموم العملة التونسية		
الحزب الحر الدستوري الجديد		

2 - اربط الدول التي تنتمي إلى مجموعة الاتفاق الثلاثي في الحرب العالمية الأولى بخط متواصل واربط الدول التي تنتمي إلى مجموعة التحالف الثلاثي في نفس الحرب بخط متقطع : (03 نقاط)

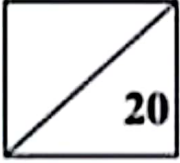
فرنسا	روسيا
النمسا-المجر	المانيا
اطاليا	انكلترا

القسم الثاني : 12 نقطة

- كان للحرب العالمية الأولى نتائج اقتصادية وسياسية هامة شملت جل بلدان العالم . احرر فقرة مترابطة معتمدا العناصر التالية :

- انكر في المقدمة تاريخ اندلاع الحرب العالمية الأولى .
- ابرز في عنصر اول اهم النتائج السياسية للحرب .
- ابين في عنصر ثان اهم النتائج الاقتصادية لها .
- اوضح اهم التحولات والتغييرات التي طرأت على خريطة أوروبا .

إعدادية الامتياز بالمنستير	اختبار كتابي	الثلاثي الأول
السنة الدراسية: 2010-2011	عدد 1: التاريخ	التوقيت:
الاسم واللقب:	القسم:	الرقم:
الاستاذ: فوزي بن نجمة		

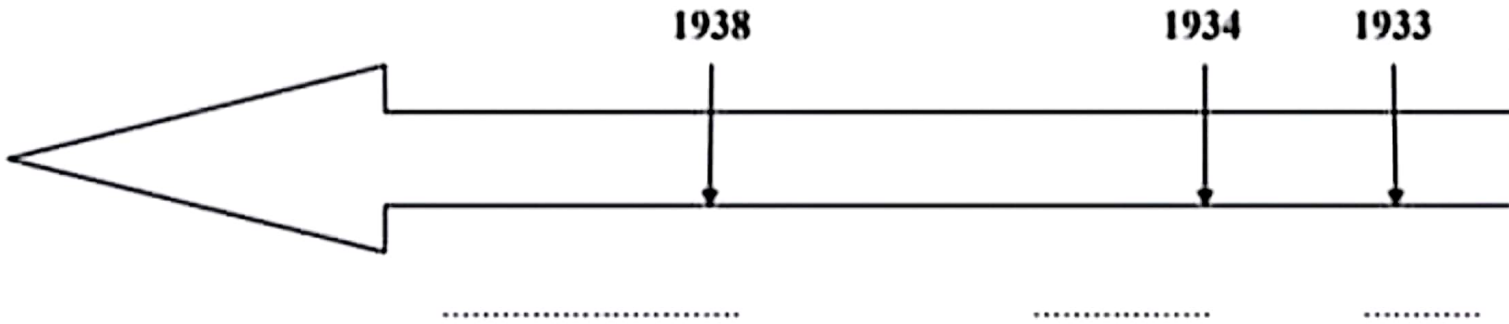


القسم الأول: 6 نقاط
1 - اتمم الجدول التالي (03 نقاط).

اكتب داخل الجدول اسماء الدول المكونة لحلفي الدول الاوروبية عند بداية الحرب العالمية الاولى .

دول الحلف ثلاثي	دول الوفاق الثلاثي

2 - ارتب الأحداث التالية على المحور الزمني (03 نقاط)
تأسيس الحزب الحر الدستوري الجديد - إعلان الإضراب العام في تونس - إصدار فرنسا أمر يمنع العمل السياسي



القسم الثاني : 12 نقطة

- تزامت الأوضاع في البلاد التونسية اثر الحرب العالمية الأولى مما ساهم في دفع النشاط السياسي الوطني . احزر فترة متماسكة مستعينا بالعناصر التالية :
- أشير في المقدمة إلى مميزات الوضع الاقتصادي في تونس غداة الحرب العالمية الأولى .
- ابرز أهم مظاهر الوضع الاجتماعي .
- أستعرض مستجدات النشاط السياسي الوطني .
- ألمح إلى أهم المطالب التي تضمنها برنامج الحزب الحر الدستوري التونسي .

إعدادية الامتياز بالمنستير	اختبار كتابي	اللائي الأول
السنة الدراسية: 2010-2011	عدد 1: التاريخ	التوقيت:
الاسم واللقب:.....	القسم:.....	الرقم:.....
الاسم واللقب:.....	القسم:.....	الرقم:.....

القسم الأول: 6 نقاط

1 - اربط بخط متواصل بين الحدث المذكور والتاريخ المناسب له : (02 نقاط)

التاريخ	الحدث
1914	معاهدة فرساي
1917	نهاية الحرب العالمية الأولى
1918	دخول الولايات المتحدة الأمريكية الحرب
1919	مقتل ولي عهد النمسا

2 - اعر الفراغات الواردة بالجملة التالية بما يناسب ليستقيم المعنى : (04 نقاط)

" امتدت الحرب العالمية الأولى من سنة (.....) الى سنة (.....) ودارت اساسا بين الدول (.....) المتسببة فيها من اجل (.....) واستفادت منها الولايات المتحدة الأمريكية .

القسم الثاني : 12 نقطة

- توفرت في بداية العشرينات من القرن العشرين في البلاد التونسية ظروف ملائمة لنشأة " جامعة عموم العملة التونسية " . احرر فقرة إنشائية متماسكة مستعينا بالعناصر التالية :

- اعرف بالمنظمة النقابية التونسية التي تأسست في بداية العشرينات.
- أعرض إلى ظروف نشأتها .
- احدد أهدافها وطبيعة نشاطها .
- ألمح إلى أسباب فشلها.

التحرير

إعداديه الامتياز بالمنستير	اختبار كتابي	البلادي الأول
المئة الدراسية: 2010-2011	عدد 1: الجغرافيا	التوقيت:
الاسم واللقب:.....القسم:.....الرقم:.....	الأستاذ: فوزي بن	نجمة

20

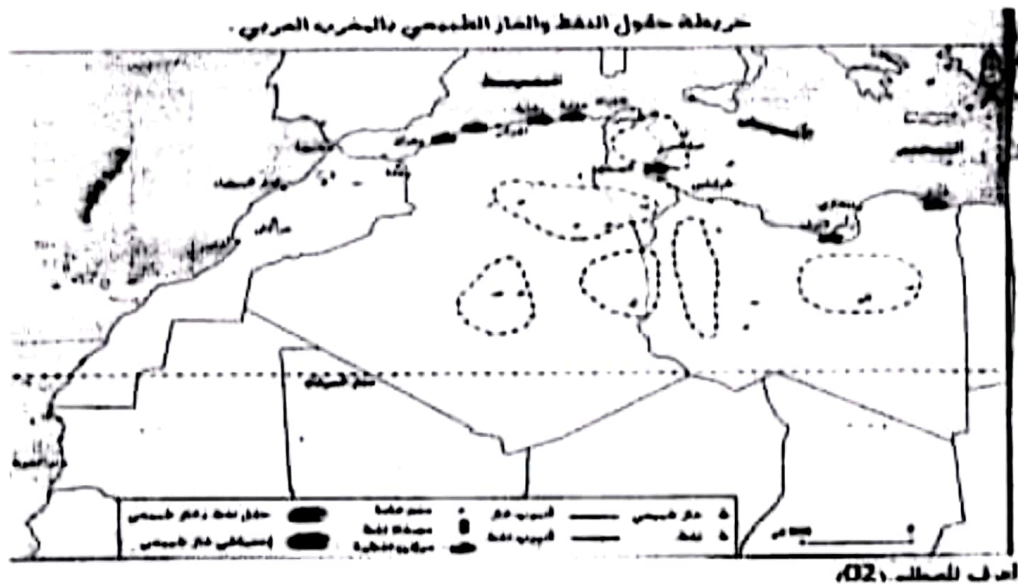
القسم الأول: 6 نقاط

1 - اتمم الجدول : (02 نقاط)

اتمم الجدول بالتعرف إلى ضغوطات الوسط الطبيعي المناخية.

الضغوطات	المناخية
	♦
	♦
	♦
	♦

2- أتمم رسم خريطة حقول النفط والغاز بالمغرب العربي مبرزاً مواقعها : (04 نقاط)
(حقول النفط بالأخضر - حقول الغاز بالأزرق - والأتايب بالبنّي)



القسم الثاني : 12 نقطة

أنجز تحريراً متماسكاً أشرح فيه تباين بلدان المغرب العربي في مؤشرات التنمية البشرية مستعيناً بالأسئلة التالية .
➤ أعرّف مؤشر التنمية البشرية في المقنمة.

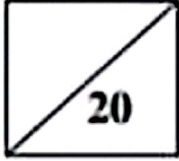
➤ أبرز مظاهر تحسن التنمية البشرية ببلدان المغرب العربي .

➤ أقرن بين الدول المغاربية من حيث هذه المؤشرات.

➤ أشير إلى تباين الدول المغاربية من حيث الانتقال الديمغرافي.

التحرير

إعدادية الامتياز بالمنستير	اختبار كتابي	الثلاثي الأول
السنة الدراسية: 2010-2011	عدد 1: الجغرافيا	التوقيت:
الاسم واللقب:.....	القسم:.....	الاستاذ: فوزي بن
الرقم:.....		نجمة



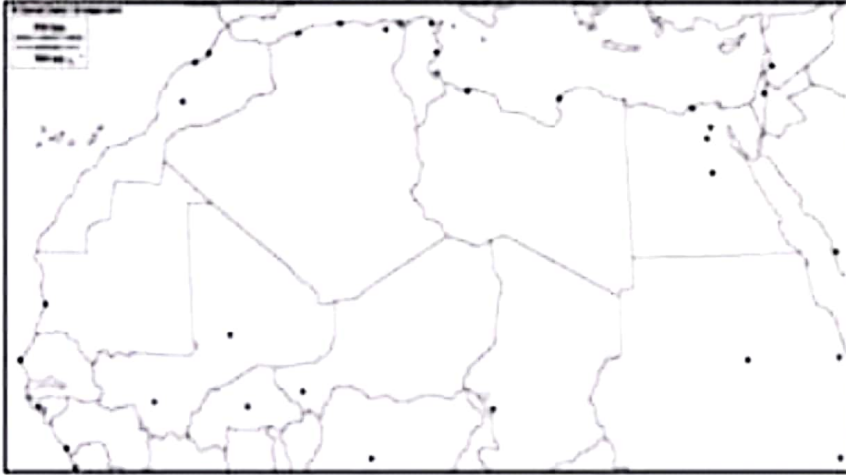
القسم الأول: 6 نقاط

1 - اعرّف المصطلحين التاليين : (02 نقاط)
 ➤ التحولة

➤ ضغوطات الوسط الطبيعي ومزاياه

2- أتمم رسم خريطة اتحاد المغرب العربي مبرزاً الدول المكونة لها : (04 نقاط)

(تلوين كل بلد بلون مميز بعد التعرف على اسمها)



القسم الثاني : 12 نقطة

أنجز تحريراً متماسكاً أشرح فيه تباين بلدان المغرب العربي في موقعها من الانتقال الديمغرافي مستعيناً بالأسئلة التالية.

➤ أعرّف الانتقال الديمغرافي في المقنعة.

➤ أبرز تباين نسبة النمو بين بلدان المغرب العربي وعواملها.

➤ أبين مواقع الدول المغاربية من مراحل الانتقال الديمغرافي.

➤ أشير إلى تباين مؤشرات التنمية البشرية بالدول المغاربية.