

الاسم :	تقييم مكتسبات التلاميذ	المدرسة الابتدائية الهناء المروج 2
اللقب :	في الفترة 1	السنة الدراسية : 2023/2022
السنة الرابعة		

السند 01 : للمشاركة في رحلة مدرسية إلى مدينة نابل كسر الأخوان عصام ووليد حصالتهم . وجد عصام المبالغ المبينة في الجدول:

1/2	1	2	5	10
3	3	4	2	1

التعليمة 1-1 : أحسب مبلغ عصام

 مع 3

زاده والده 17500 مي

التعليمة 2-1 : أحسب المبلغ الذي أصبح يملكه.

.....
.....

 / مع 2

السند 02 : أما أخوه الأكبر وليد فقد وجد ضعف ما وجدده عصام بحصالته. قدمت له أمه مبلغا فأصبح يملك 72500 مي

التعليمة 1-2 : أحسب المبلغ الذي وجدده وليد في حصالته

.....
.....

 / مع 2 ج

التعليمة 2-2 : أحسب المبلغ الذي أعطته الأم لوليد

.....
.....

 / مع 2 ب

التعليمة 3-2 : أمثل مبلغ وليد بأقل ما يمكن من القطع النقدية

.....

 مع 3

السند 03 : أثناء تجوله في مدينة نابل اشترى عصام 4 مزهريات فخارية بـ 7850 مي الواحدة و 6 بطاقات تذكارية بـ 8400 مي

التعليمة 1-3 : أحسب ثمن المزهريات

--	-------------------------


مع 1 ج / مع 2 ج

التعليمة 2-3 : أكمل تمثيل ثمن المزهريات

	<table border="1"><tr><td>2</td><td>1/2</td></tr></table>	2	1/2
2	1/2		

مع 3 ا

التعليمة 2-3 : أحسب المبلغ المتبقي لعصام

 TuniTests
--	----------------------------------

مع 1 ا / مع 2 ا

مع 1 ب / مع 2 ب

السند 04 : أما وليد فلقد اقتنى 8 صحن فخارية و دفع 48800 مي بعد أن منحه البائع تحفيضا قدره 1350 مي عن كل صحن واحد

التعليمة 1-4 : أحسب الثمن الأصلي للصحون

--	----------------------------------

مع 1 ج / مع 2 ج

مع 1 ا / مع 2 ا

التَّعْلِيمَةُ 4-1 : أحسب المبلغ المتبقي لوليد

.....
.....

مع 1 ب / مع 2 ب

السَّنَد 05 : جمع الأخوان ما تبقا لهما و أرادا شراء قلادة بـ 13500 مي و خاتما و لكن بقيا في حاجة لـ 1500 مي

التَّعْلِيمَةُ 5-1 : أطرح السؤال المناسب و أجب عنه

مع 5



.....
.....
.....
.....
.....
.....

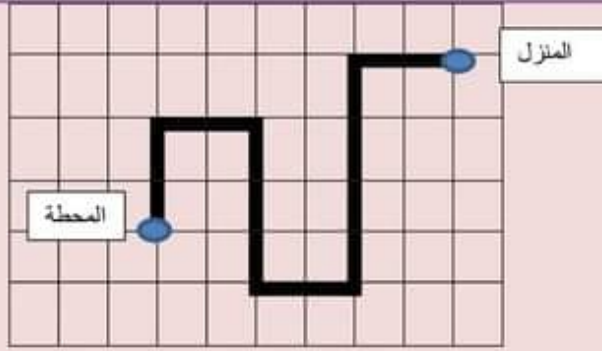
السَّنَد 06 : كي لا تتكسر المشتريات وضعها الولدان في 3 صناديق و ربطاها بخيوط أطوالها كالتالي

التَّعْلِيمَةُ 6-1 : أكمل تعبير الجدول

أحول للصم	فيس طوله	
	2م و نصف	الخيوط 1
	1 م و نصف الدسم	الخيوط 2
	2 م و 400 مم	الخيوط 3

مع 3 ب

السَّنَد 07 : عند العودة من محطة الحافلات الى المنزل قطع الطفلان المسلك التالي

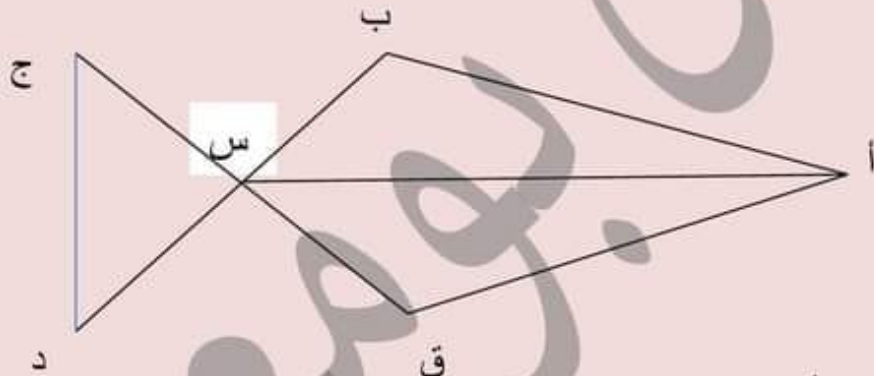


التَّعْلِيمَةُ 1-7 : أعبّر عن المسلك بالسهم

مع 4

التَّعْلِيمَةُ 1-7 : أختصر المسلك و أرسمه على الشبكة باللون الأزرق

السَّنَد 08 : هذا شكل مرسوم على إحدى المزهريات



مع 4

التَّعْلِيمَةُ 1-8 : ألون [ب ق] بالأزرق

حساب ذهني:

-1	-5
-2	-6
-3	-7
-4	-8

معد 5	معد 4	معد 3		معد 2			معد 1			
		ب	ا	ج	ب	ا	ج	ب		ا
0	0	0	0	0	0	0	0	0	0	نون التملك (+)
2	0.5	0.5	0.5	0.5	0.5	0.5	0.5	0.25	0.25	التملك الأدنى (++)
	1	1	1	1	1	1	1	0.5	0.5	التملك الأقصى (+++)
2	1.5	1.5	1.5	1.5	1.5	1.5	1.5	0.75	0.75	