

السنة الخامسة  
مارس 2014

تقييم مكتسبات التلاميذ في نهاية الثلاثي الثاني  
إيقاظ علمي  
الإصلاح

وثيقة المعلم  
المعلم : كمال بن مبارك

المسند 1

التعليمة 2-1

ما هو الخطأ الذي قام به الميكانيكي؟  
أضع سطرا تحت الإفادة الصحيحة : - كان الميكانيكي يصلح العطب والدائرة مغلقة.  
- كان الميكانيكي يصلح العطب والدائرة مفتوحة

أسمي أجزاء الدائرة الكهربائية

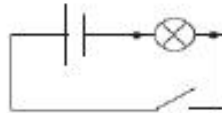
التعليمة 3-1



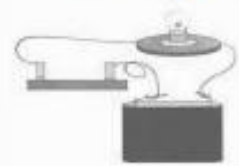
أرسم تخطيطا للدائرة الكهربائية البسيطة باستعمال

التعليمة 3-1

الرموز المتفق عليها.



دائرة كهربائية بسيطة



المسند 2

التعليمة 1-2

أعيد كتابة كل إفادة مع إصلاح الخطأ إن وجد:

عضلات لوح الكتف هي عضلات دائرية ←  
عضلات الفخذ هي عضلات مغزلية.

عضلات لوح الكتف هي عضلات مسطحة.

عضلات الفخذ هي عضلات مغزلية.

التعليمة 2-2

أضع العلامة ( × )

في الخانة المناسبة:

نوع الإصابة				العضو
الخلع	الانفصام	الكسر	التمدد	
		×		العظام
	×		×	العضلات
×				المفاصل

لماذا وصل الأب لاهنا ← لأن جسمه في حاجة إلى كمية كبيرة من الأكسجين.

التعليمة 1-3

المسند 3

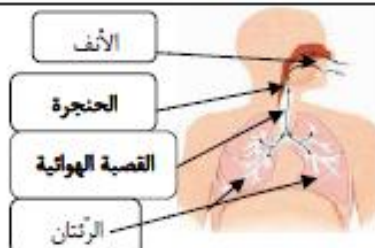
لماذا يؤثر التدخين سلبا على الجهاز التنفسي:

التعليمة 2-3

لأن الدخان يحوي سموما تلوث الرئتين و تصيبها بأمراض خطيرة.

التعليمة 2-3

أسمي أعضاء الجهاز التنفسي في الصورة :



التعظيمة 2-3

أكمل بما يناسب من الكلمات التالية :

- تشمل الحركة التنفسية على طورين هما :

- ✓ الشهيق و يتمثل في دخول الهواء إلى الرئتين.  
✓ الزفير و يتمثل في خروج الهواء من الرئتين.

الشهيق

الزفير

المسند 3

التعظيمة 1-2

ما هي وظيفة القلب في جسم الإنسان

تنشيط الدورة الدموية./ القلب هو المسؤول عن الدورة الدموية/يضخ الدم في الأوعية...

التعظيمة 1-2

أعيد تركيب الرسم البياني التالي مع إصلاح الخطأ

الإصلاح	الرسم البياني
<p>الدورة الدموية الصغرى</p> <p>إلى القلب</p> <p>إلى الرئتين</p> <p>من القلب</p>	<p>الدورة الدموية الصغرى</p> <p>من القلب</p> <p>إلى الرئتين</p> <p>إلى كامل الجسم</p>
<p>الدورة الدموية الكبرى</p> <p>إلى القلب</p> <p>إلى كامل الجسم</p> <p>من القلب</p>	<p>الدورة الدموية الكبرى</p> <p>من الرئتين</p> <p>إلى كامل الجسم</p> <p>إلى القلب</p>



TuniTests