
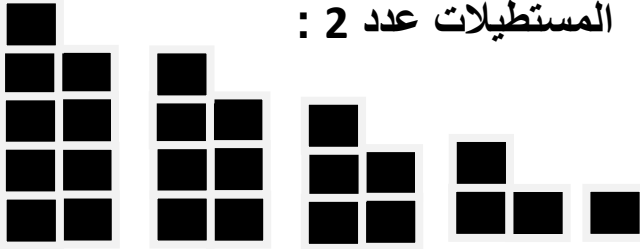


أتأمل وأستنتج :

أكتب تحت كل مستطيل عدد المربعات التي يتضمنها :


المستطيلات عدد 2 :

المستطيلات عدد 1



ماذا تلاحظ ؟

أتأمل وأستنتج : أكتب تحت كل شكل العدد المناسب باستعمال عدد المربعات السوداء مع عدد المربعات الرمادية



ماذا تلاحظ ؟

أتأمل وأستنتج :

أكتب تحت كل مستطيل عدد المربعات التي يتضمنها :



ماذا تلاحظ ؟

أملأ الفراغ بما يناسب :

العدد الزوجي هو كل عدد يكون رقم

العدد الفردي هو كل عدد يكون رقم

مجموع عددين زوجيين هو عدد

مجموع عددين فرديين هو عدد

مجموع عددين أحدهما فردي والآخر زوجي هو عدد

1 ماهي الأعداد الفردية في هذه المجموعة :

185 - 130 - 364 - 607 - 793 - 914 - 404 - 617

2 أسطر الأعداد الزوجية :

834 - 403 - 504 - 731 - 329 - 208 - 900 - 642

3 أكتب رقم الآحاد لتكون جميع الأعداد زوجية :

62. - 75. - 4. - 50. - 32. - 8. - 14.

4 أكتب الأعداد من 320 إلى 403 ثم أميز الأعداد الفردية :

320 350.....

5 أكتب الأعداد الزوجية المحصورة بين 501 و 549


أرتبها تصاعدياً :

- ما هو أصغر عدد فردي يتكون من رقمين؟
- ما هو أكبر عدد فردي يتكون من رقمين؟
- ما هو أصغر عدد زوجي يتكون من 3 أرقام؟
- ما هو أكبر عدد زوجي يتكون من ثلاثة أرقام؟

أصنف الأعداد التالية في الجدول :

26 - 375 - 98 - 238 - 483
731 - 652 - 502 - 114 -
937 - 842 - 903 - 333

| الأعداد الفردية | الأعداد الزوجية |
|-----------------|-----------------|
| | |



التحدي بالألغاز :

في هذا الحقل سبعة خراف المطلوب عزل كل
حروف لوحده برسم ثلاثة خطوط مستقيمة فقط